

1. खाली स्थान में उचित वर्ण भरिए-

- (क) अ आ \_\_\_ ई उ (ख) च \_\_\_ ज झ \_\_\_  
(ग) प \_\_\_ भ म (घ) श \_\_\_ ह  
(ङ) क्ष त्र \_\_\_

2. मिलाकर शब्द बनाइए-

- (क) भा + लू = (ख) को + य + ल =  
(ग) क + बू + त + र = (घ) मं + जि + ल -  
(ङ) मौ + स + म = (च) ग + र + मी =  
(छ) अं + गू + र = (ज) क + म + ल =

3. कोष्ठक में से उचित शब्द भरकर रिक्त स्थानों की पूर्ति कीजिए-

- (क) \_\_\_ बछड़े को दूध पिला रही है। (बैल/गाय)  
(ख) \_\_\_ खेत में काम करता है। (किसान/धोबिन)  
(ग) \_\_\_ हिन्दी पढ़ा रही हैं। (अध्यापक/अध्यापिका)  
(घ) \_\_\_ रामायण पाठ कर रहे हैं। (पंडित जी/  
पंडिताइन)

4. नीचे दिए गए सर्वनाम शब्दों से वाक्य बनाइए:-

- (क) मैं =  
(ख) हमें =  
(ग) तुम =  
(घ) आपका =

5. पर्यायवाची शब्दों का मिलान कीजिए

- (क) सायं 1. वायु  
(ख) सखा 2. संध्या  
(ग) पवन 3. गगन  
(घ) सूरज 4. सूर्य

6. दिये गये शब्दों में से मनुष्यों, वस्तुओं, स्थानों तथा पशुओं के नामों को छाँट कर सही जगह पर लिखो।

रोहन, मेरठ, शेर, आईना, किताब, पंखा, बन्दर, मीनू, दिल्ली, अदरक, रामपुर, बैल, मनीषा,

--	--	--	--

7. नीचे लिखे ई की मात्रा वाले शब्दों के नीचे रेखा खींचें।

1. चिड़िया पेड़ पर बैठी है।
2. मीनू मीतनगर में रहती है।
3. दीदी कल मुंबई जाएगी।
4. नानी ने मिठाई बनाई है।

8. तुकान्त शब्द आगे लिखें:-

1. जाला \_\_\_\_\_
2. ताना \_\_\_\_\_
3. पानी \_\_\_\_\_
4. मगर \_\_\_\_\_
5. भवन \_\_\_\_\_

9. निम्नलिखित शब्दों के द्वारा रिक्त स्थानों की पूर्ति करो:

- सुरक्षा, इलाज, किसान, पढ़ाती, देखभाल
1. डॉक्टर के पास हम \_\_\_ कराने जाते हैं।
  2. पुलिस हमारी \_\_\_ के लिए काम करती है।
  3. \_\_\_ सभी के लिए अनाज उगाते हैं।
  4. नर्स मरीज की \_\_\_ करती है।
  5. अध्यापिका हमें विद्यालय में \_\_\_ हैं।

अनुच्छेद

बीना और सनी भाई बहन थे। वे कक्षा तीन में पढ़ते थे। बीना रोज सुबह उठती और घर का सारा काम निपटा कर स्कूल पढ़ने जाती। सनी आलसी था और देर तक सोता रहता। जिससे वह अपनी कक्षा में सबसे कम अंक पाता। बीना मन लगा कर पढ़ती और पहला स्थान आती। इस लिए बीना की तरह हमें भी मन लगाकर पढ़ाई करनी चाहिए।

उपरोक्त अनुच्छेद के आधार पर निम्नलिखित प्रश्नों के उत्तर दें:-

1. सनी की बहन का क्या नाम था?

- (अ) टीना (ब) रीना  
(स) मीना (द) बीना

2. दोनों कौन सी कक्षा में पढ़ते थे?

- (अ) कक्षा 4 (ब) कक्षा 3  
(स) कक्षा 5 (द) कक्षा 2

3. सनी में क्या अवगुण थे?

- (अ) आलसी और देर तक सोने वाला  
(ब) बहुत अधिक पैसे उड़ाने वाला  
(स) समय बर्बाद करने वाला  
(द) किसी की ना सुनने वाला

निम्नलिखित अनुच्छेद में से सब्जियों के नाम छाँटकर लिखो :-

रवि अपने पिताजी के साथ बाजार सब्जी लेने गया। उसे हरे रंग की लौकी, तोरई, भिंडी दिखायी दी। उसने पिताजी से लाल टमाटर, और शिमला मिर्च भी लेने को बोला। आलू और हरी मिर्च उसकी मम्मी ने लाने के लिए बोला। एक ठेले वाला "गोभी ले लो, मटर ले लो," की आवाज लगा रहा था। उसे सुनकर बहुत अच्छा लग रहा था। चलते-चलते उन्होंने धनिया भी खरीद लिया।

2. दिए गए व्यंजनों को जोड़कर शब्द बनाइए-

- (क) स + लो + नी = (ख) आ + व + श्य + क =  
 (ग) मौ + सी = (घ) व + र्ण + मा + ला =  
 (ङ) कृ + ष + क = (च) प + तं + ग =

3. रेखा खींचकर सही मिलान करो-

- (क) एक सप्ताह में कुल (1) 15 अगस्त  
 (ख) 2 अक्टूबर (2) एक वर्ष  
 (ग) 12 महीनों का होता है (3) गान्धी जयन्ती मनाते हैं  
 (घ) 26 जनवरी (4) गणतन्त्र दिवस मनाते हैं  
 (ङ) स्वतन्त्रता दिवस मनाते हैं (5) 7 दिन

4. कोष्ठक में से देखकर उचित सर्वनाम लिखिए-

- (क) \_\_\_ मेरी बहन अनुजा है। (वह/उस)  
 (ख) पिता जी \_\_\_ लिए खिलौने लाये। (हमको/हमारे)  
 (ग) \_\_\_ देखकर अध्यापक चले गये। (मैं/मुझे)  
 (घ) कल हम \_\_\_ दोनों के साथ ही आएँगे। (उन/उन्हें)  
 (ङ) \_\_\_ मेरी सहायता की थी। (वह/उन्होंने)

निम्नलिखित अनुच्छेद को पढ़ो और अपनी कॉपी में लिखो

गर्मियों के दिन थें। चारों तरफ धूप ही धूप थी। एक नन्ही चिड़िया भूख प्यास से व्याकुल होकर भोजन पानी की खोज में इधर उधर भटक रही थी। अचानक उसकी नज़र एक घर की छत पर गई जहाँ किसी ने एक प्याले में चावल के दाने और दूसरे प्याले में पानी भर कर रखे थे। चिड़िया यह देखकर बहुत खुश हुई और वहाँ जाकर दाना चुगने लगी और पानी पीने लगी जिससे उसकी भूख और प्यास मिट गई।

गर्मियों के दिनों में लू बहुत अधिक चलती है। लू के समय हमें धूप में नहीं निकलना चाहिए। धूप से बचाव के लिए हमें अपने सिर को सूती कपड़े से ढक कर रखना चाहिए और सूती एवं हल्के रंग के कपड़े पहनने चाहिए। गर्मियों में हमें हल्का एवं तरल पदार्थ लेना चाहिए जैसे- मट्ठा, छाछ, लस्सी, गन्ने का रस, बेल का शरबत, नारियल पानी, फलों का रस आदि। खाने में कच्ची प्याज, सत्तू एवम दही का सेवन करना चाहिए।

5. निम्नलिखित अनुच्छेद में से रंगों के नाम पर गोला लगाइए-

हवा महल जयपुर में है। यह गुलाबी रंग का बना है। इसमें भूरे रंग की लकड़ी की खिड़कियाँ हैं। इसमें हरे-हरे पेड़ों की ठण्डी हवा आती है। इसके भीतर उत्तर दिशा की ओर से सुनहरे रंग की धूप आती है। बारिश के दिनों में इसके चारों तरफ पेड़ों पर लाल, पीले, जामुनी और सफ़ेद रंगों के फूल खिलने से वहाँ का दृश्य अति मनोरम हो जाता है। बारिश के दिनों में नीला आसमान काले बादलों से भर जाता है। सभी तरफ हरी हरी घास लहलहाती है। प्राकृतिक सौन्दर्य देखते ही बनता है।

एक गाँव में एक बूढ़ा पेड़ अकेला खड़ा था। उसने कहा, "मैं अकेला हूँ, बेकार हूँ।" एक बच्चा आया और उसने कहा, "नहीं, आप सारे दुनिया को शादी के दिन की याद दिलाते हैं।" पेड़ खुश हो गया। इसके बाद, लोग उस पेड़ को बागीचे में बहुत सम्मान देने लगे। पेड़ अब नहीं मानता कि वह अकेला है। वह जानता है कि उसका महत्व हर व्यक्ति के जीवन में है।

बिल्ली मौसी चूहों की बारात घूमने जा रही थी। मन ही मन सोच रही थी आज खूब पकवान खाऊँगी। तभी उसे हाथ में मिठाई लिए बंदर मिला। वह मन ही मन सोच रही थी कहीं मिठाई छूट न जाए। अचानक वह शेरू को अपनी ओर आते देख घबरा गई। शेरू ने बिल्ली मौसी का पीछा किया। वह घर भाग आई और ठंडा पानी पी कर सो गई।

1. मोटे शब्दों के विलोम शब्दों से रिक्त स्थानों की पूर्ति कीजिए:-

- (क) \*काला\* घोड़ा दौड़ रहा था जबकि \_\_\_\_\_ घोड़ा खड़ा था।  
 (ख) \*ऊपर\* चिड़िया बैठी थी और \_\_\_\_\_ थी एक बिल्ली।  
 (ग) \*धनी\* लोगों के यहां \_\_\_\_\_ लोग कार्य करते हैं।  
 (घ) सुबह \*सर्दी\* थी लेकिन सूरज निकलने से \_\_\_\_\_ हो गई।  
 (ङ) \*प्रकाश\* के जाने पर ही \_\_\_\_\_ आता है।

2. वाक्य के लिए एक शब्द लिखिए:-

- वे मरीजों का इलाज करती हैं \_\_\_\_\_
- वे बाल काटते हैं \_\_\_\_\_
- वे लकड़ी के दरवाजे और खिड़की बनाते हैं \_\_\_\_\_
- वह सीमा पर रहकर हमारी सुरक्षा करते हैं \_\_\_\_\_
- वे घर बनाते हैं \_\_\_\_\_

3. संज्ञा शब्दों को छाँटकर लिखिए-

- (क) माँ ने खीर बनाई है।  
 (ख) संगीता चित्तौड़गढ़ गई है।  
 (ग) चंडीगढ़ में रॉक गार्डन बना है।  
 (घ) आज मुझे बहुत खुशी हुई।  
 (ङ) मछली मर गयी है।

4. हिन्दी के स्वर इस प्रकार हैं:-  
 अ \_ इ \_ उ \_ ऋ \_ ऐ \_ औ

5. पढ़िए, समझिए और नये शब्द बनाइए;

जैसे र् + आ + म् + अ = राम

(क) क् + ऋ + ष् + ण् + आ =

(ख) प् + उ + स् + त् + अ + क् + अ =

(ग) म् + आ + ल् + ई =

(घ) क् + ए + ल् + आ =

(ङ) च् + इ + झ् + इ + य् + आ =

6. वाक्य को शुद्ध कीजिए

(क) पानी में बोटल भरा है।

शुद्ध वाक्य=

(ख) चोर ने पकड़ा को सिपाही।

शुद्ध वाक्य=

(ग) आज हमने फिल्म देखी।

शुद्ध वाक्य=

(घ) नदी में मगरमच्छ है।

शुद्ध वाक्य=

7. कहानी से संबंधित निम्नलिखित प्रश्नों के उत्तर दें-

एक बार एक जंगल में एक चिड़ा अपनी चिड़िया के साथ रहता था। एक दिन बहुत तेज धूप के कारण गर्मी हो गई। दोनों भोजन की तलाश में कहीं नहीं जा सके। शाम को दोनों को भूख लगने लगी। चिड़ा बोला, "अब तो रहा ही नहीं जा रहा है चलो आज खिचड़ी पकायी जाए।" चिड़िया बोली, "घर में ना तो चावल है ना ही मूँग।" चिड़ा बोला, तुम शहर से चावल लाओ और मैं किसान के घर से मूँग लेकर आता हूँ। चिड़ा लाया मूँग, तो चिड़िया लायी चावल। दोनों ने अँगीठी पर खिचड़ी पकायी, खदबद..... खदबद.....। खिचड़ी में मिलाया घी, दोनों में खिचड़ी खायी, ना चम्मच, ना चटायी। दोनों ने खूब मौज मनायी। दोनों उड़ गये तालाब पर पानी पीने।

प्र.1 इस कहानी में कौन-कौन है?

प्र.2 दोनों भोजन की तलाश में क्यों नहीं जा सके?

प्र.3 चिड़िया चावल कहाँ से लायी?

प्र.4 चिड़ा किसान के घर क्या लेने गया?





नाम:

विषय: अंग्रेजी

विद्यालय:

कक्षा: 2

**1. correct the jumbled word according to the picture:**

maelc		<input type="text"/>	<input type="text"/>	<input type="text"/>	<input type="text"/>	<input type="text"/>
erde		<input type="text"/>	<input type="text"/>	<input type="text"/>	<input type="text"/>	
nloi		<input type="text"/>	<input type="text"/>	<input type="text"/>	<input type="text"/>	
woc		<input type="text"/>	<input type="text"/>	<input type="text"/>		

**2. Match the following words with pictures**

	Sun
	Tree
	Desk
	Dog
	Fan

**3. write the name of any five colours.**

- |         |         |
|---------|---------|
| 1....., | 2....., |
| 3....., | 4....., |
| 5.....  |         |

नाम:

विषय: अंग्रेजी

विद्यालय:

**1. write the missing letters of the following words:**

1. d...g    2. m...nk...y    3. st...r    4. m..us...    5. w..t...r

**2. write the number names in words:**

8 .....

4 .....

6 .....

9 .....

7 .....

2 .....

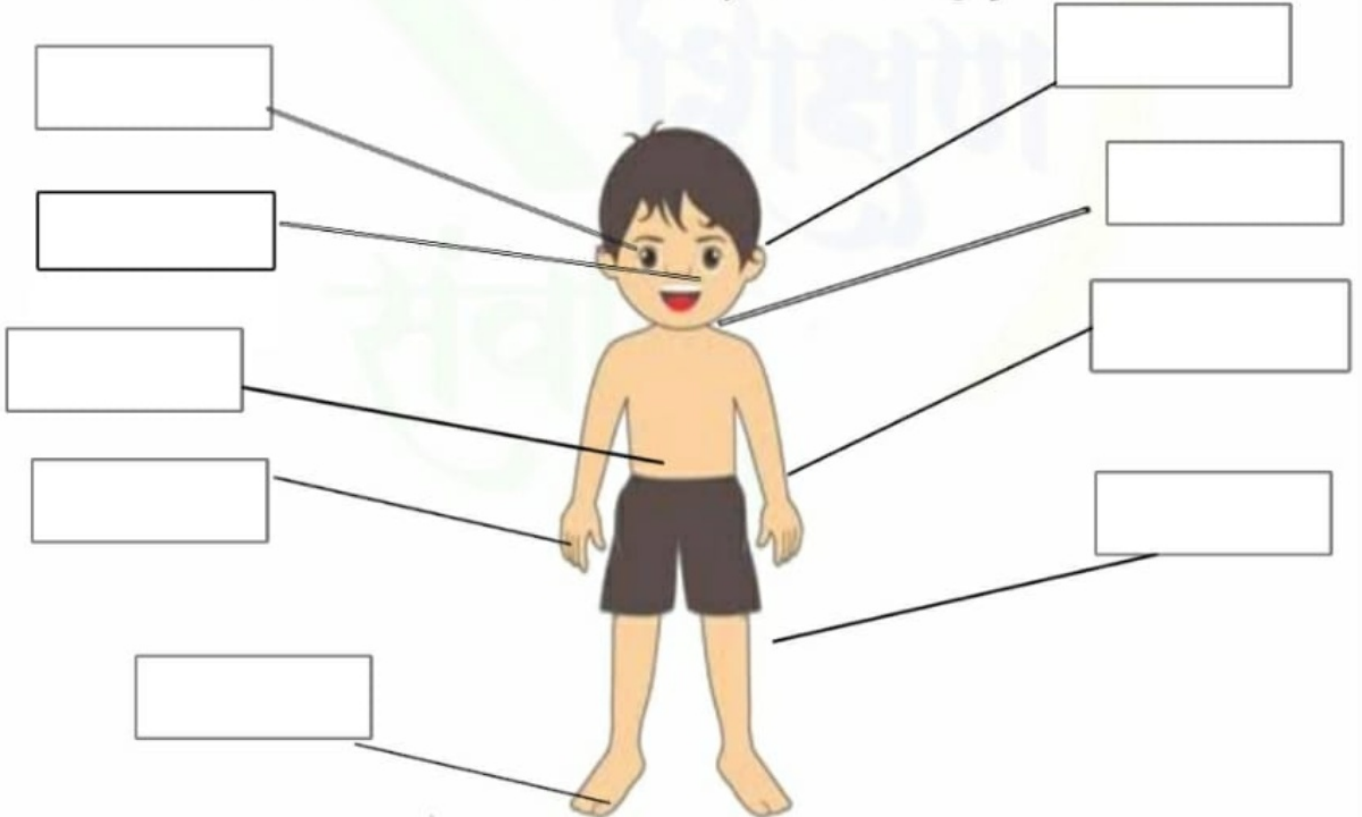
1 .....

3 .....

5 .....

10 .....

**3. write the name of the body parts:**



नाम:

विद्यालय:

कक्षा: 2

**a) Read and rewrite the sentences:**

That is a long snake.

A coconut tree is tall.

Tommy is my pet dog.

**b) Use a/an before each words:**

..... igloo

..... Book

..... banana

..... tree

..... mango

..... eagle

..... insect

..... pen

..... owl

..... egg

**c) Match the rhyming words:**

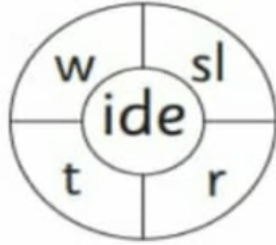
- |        |      |
|--------|------|
| 1. Bat | Lip  |
| 2.Red  | Bun  |
| 3.Kit  | Hot  |
| 4.Cry  | Sail |
| 5.Tip  | Fry  |
| 6.Nail | Bit  |
| 7.Pot  | Hat  |
| 8.sun  | bed  |

नाम:

विद्यालय:

कक्षा: 2

## Use the word wheels to make the words:

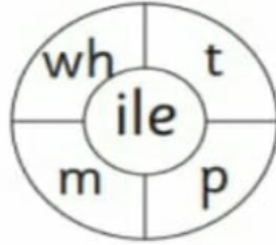


\_\_\_\_\_

\_\_\_\_\_

\_\_\_\_\_

\_\_\_\_\_

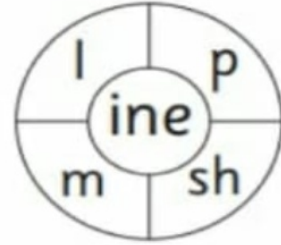


\_\_\_\_\_

\_\_\_\_\_

\_\_\_\_\_

\_\_\_\_\_



\_\_\_\_\_

\_\_\_\_\_

\_\_\_\_\_

\_\_\_\_\_

## fruit word search

- Write the name of the fruit in the space provided.
- Find the word in the word search puzzle.  
(Words only run across and down.)

s	t	r	a	w	b	e	r	r	y
o	r	a	n	j	e	p	e	a	r
r	m	e	h	o	a	e	w	n	a
a	b	a	b	a	n	a	n	a	p
n	x	p	a	i	r	c	e	y	p
g	r	a	p	e	s	h	k	a	l
e	p	i	n	e	a	p	p	l	e




नाम:


विद्यालय:

कक्षा: 2

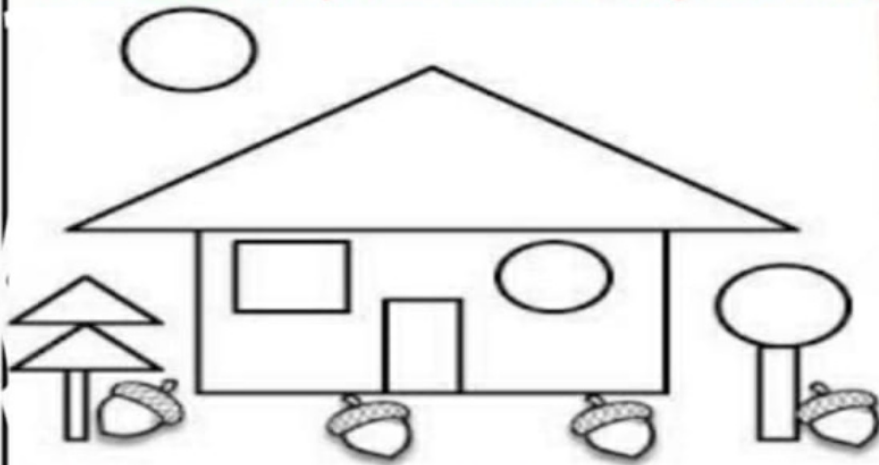
**1. Colour the pictures to match the sentences:**




1.   
My umbrella is blue and white.

2.   
The little frog is green.

3.   
The flower is red and yellow.

**2. Colour the picture according to instructions:**



 red  
 yellow  
 blue

**3. Use the colour codes for each word group to complete the picture:**

 oi     oy     ou     ow





नाम -  
विद्यालय -

विषय- गणित

शीट क्रमांक- 1  
कक्षा- 2

खाली स्थान को सम संख्याओ से भरे-

2		6		10		14	
---	--	---	--	----	--	----	--

	12		16		20		24
--	----	--	----	--	----	--	----

30		34		38		42	
----	--	----	--	----	--	----	--

	42		46		50		54
--	----	--	----	--	----	--	----

20		24		28		32	
----	--	----	--	----	--	----	--

गोला बनाए-

Thirty-three	33	30	32
--------------	----	----	----

Twenty-Nine	26	29	39
-------------	----	----	----

Twenty-Five	15	35	25
-------------	----	----	----

Thirty-Five	15	35	25
-------------	----	----	----

Thirty-One	31	30	21
------------	----	----	----

Thirty-Nine	39	36	29
-------------	----	----	----

Thirty	30	20	25
--------	----	----	----

Thirty-Six	36	39	38
------------	----	----	----

Thirty-four	24	27	34
-------------	----	----	----

नाम -  
विद्यालय -

विषय- गणित

शीट क्रमांक- 2  
कक्षा- 2

\* पढ़ो, समझो और लिखो-

1) 9547 = \_\_\_ हजार + \_\_\_ सैकड़ा + \_\_\_ दहाई + \_\_\_ इकाई

2) 2512 = \_\_\_ हजार + \_\_\_ सैकड़ा + \_\_\_ दहाई + \_\_\_ इकाई

3) 8006 = \_\_\_ हजार + \_\_\_ सैकड़ा + \_\_\_ दहाई + \_\_\_ इकाई

4) 8257 = \_\_\_ हजार + \_\_\_ सैकड़ा + \_\_\_ दहाई + \_\_\_ इकाई

5) 9507 = \_\_\_ हजार + \_\_\_ सैकड़ा + \_\_\_ दहाई + \_\_\_ इकाई

6) 1589 = \_\_\_ हजार + \_\_\_ सैकड़ा + \_\_\_ दहाई + \_\_\_ इकाई

\* सही चिह्न लगाएं (< , > , = )

4568  5689

7860  4539

9442  5643

1234  1234

7896  7893

1450  1456

5568  5329

7890  6539

6442  5643

9234  1264

7896  7896

6450  3696

नाम -  
विद्यालय -

विषय- गणित

शीट क्रमांक- 3  
कक्षा- 2

o नीचे दिए गए प्रश्नों को चिह्नों के अनुसार हल करें -

- |                           |                            |
|---------------------------|----------------------------|
| 1) $7000 + 2369 =$ _____  | 11) $882 \times 7 =$ _____ |
| 2) $8376 + 3883 =$ _____  | 12) $627 \times 9 =$ _____ |
| 3) $3767 + 2297 =$ _____  | 13) $525 \times 4 =$ _____ |
| 4) $9843 + 1234 =$ _____  | 14) $727 \times 8 =$ _____ |
| 5) $2544 + 3799 =$ _____  | 15) $901 \times 6 =$ _____ |
| 6) $7365 - 4982 =$ _____  | 16) $648 \div 8 =$ _____   |
| 7) $9723 - 2646 =$ _____  | 17) $549 \div 9 =$ _____   |
| 8) $6272 - 2529 =$ _____  | 18) $105 \div 3 =$ _____   |
| 9) $5289 - 2456 =$ _____  | 19) $124 \div 4 =$ _____   |
| 10) $9946 - 7496 =$ _____ | 20) $540 \div 9 =$ _____   |

o नीचे दिए गई आकृतियों को पहचानें और सही मिलान करें -

आयत

Circle



वृत्त

Star




वर्ग

Rectangle



त्रिभुज

Square



तारा

Triangle



नाम -  
विद्यालय -

विषय- गणित

शीट क्रमांक- 4  
कक्षा- 2

10 x 3 = ___	4 x 1 = ___	7 x 3 = ___	9 x 5 = ___	8 x 6 = ___
8 x 12 = ___	11 x 3 = ___	7 x 9 = ___	4 x 10 = ___	6 x 5 = ___
12 x 1 = ___	9 x 9 = ___	11 x 7 = ___	6 x 1 = ___	12 x 2 = ___
7 x 5 = ___	2 x 5 = ___	7 x 9 = ___	11 x 1 = ___	5 x 10 = ___
1 x 4 = ___	6 x 11 = ___	7 x 12 = ___	10 x 7 = ___	8 x 7 = ___
5 x 2 = ___	10 x 5 = ___	5 x 1 = ___	6 x 9 = ___	4 x 5 = ___
10 x 6 = ___	5 x 9 = ___	12 x 9 = ___	5 x 4 = ___	7 x 1 = ___
8 x 5 = ___	11 x 5 = ___	6 x 2 = ___	11 x 6 = ___	4 x 9 = ___
9 x 2 = ___	9 x 8 = ___	12 x 7 = ___	8 x 4 = ___	10 x 8 = ___
8 x 8 = ___	7 x 10 = ___	9 x 3 = ___	11 x 9 = ___	11 x 2 = ___
12 x 5 = ___	6 x 4 = ___	7 x 8 = ___	5 x 12 = ___	12 x 6 = ___
4 x 4 = ___	12 x 8 = ___	11 x 12 = ___	4 x 6 = ___	5 x 3 = ___
7 x 2 = ___	4 x 7 = ___	4 x 2 = ___	5 x 6 = ___	3 x 7 = ___
11 x 11 = ___	3 x 3 = ___	8 x 9 = ___	12 x 10 = ___	4 x 8 = ___
6 x 12 = ___	10 x 9 = ___	6 x 3 = ___	7 x 5 = ___	9 x 6 = ___
5 x 5 = ___	12 x 4 = ___	9 x 7 = ___	11 x 10 = ___	10 x 1 = ___
11 x 8 = ___	5 x 7 = ___	8 x 3 = ___	10 x 9 = ___	6 x 8 = ___
8 x 2 = ___	6 x 7 = ___	12 x 11 = ___	4 x 3 = ___	5 x 7 = ___
12 x 3 = ___	11 x 3 = ___	7 x 7 = ___	10 x 2 = ___	8 x 11 = ___
8 x 1 = ___	10 x 10 = ___	9 x 1 = ___	12 x 12 = ___	7 x 3 = ___

नाम -  
विद्यालय -

विषय- गणित

शीट क्रमांक- 5  
कक्षा- 2

हल करो-

$$\begin{array}{r} 1) \quad 537 \\ + 132 \\ \hline \hline \end{array}$$

$$\begin{array}{r} 2) \quad 231 \\ + 324 \\ \hline \hline \end{array}$$

$$\begin{array}{r} 3) \quad 636 \\ + 141 \\ \hline \hline \end{array}$$

$$\begin{array}{r} 4) \quad 235 \\ + 163 \\ \hline \hline \end{array}$$

$$\begin{array}{r} 5) \quad 431 \\ + 316 \\ \hline \hline \end{array}$$

$$\begin{array}{r} 6) \quad 341 \\ + 610 \\ \hline \hline \end{array}$$

$$\begin{array}{r} 7) \quad 727 \\ + 041 \\ \hline \hline \end{array}$$

$$\begin{array}{r} 8) \quad 033 \\ + 153 \\ \hline \hline \end{array}$$

$$\begin{array}{r} 9) \quad 132 \\ + 306 \\ \hline \hline \end{array}$$

$$\begin{array}{r} 10) \quad 221 \\ + 330 \\ \hline \hline \end{array}$$

$$\begin{array}{r} 11) \quad 222 \\ + 254 \\ \hline \hline \end{array}$$

$$\begin{array}{r} 12) \quad 405 \\ + 120 \\ \hline \hline \end{array}$$

$$\begin{array}{r} 14) \quad 636 \\ + 032 \\ \hline \hline \end{array}$$

$$\begin{array}{r} 15) \quad 330 \\ + 510 \\ \hline \hline \end{array}$$

$$\begin{array}{r} 16) \quad 027 \\ + 051 \\ \hline \hline \end{array}$$

$$\begin{array}{r} 17) \quad 707 \\ + 151 \\ \hline \hline \end{array}$$

$$\begin{array}{r} 60 \\ -12 \\ \hline \end{array}$$

$$\begin{array}{r} 47 \\ -29 \\ \hline \end{array}$$

$$\begin{array}{r} 18 \\ -16 \\ \hline \end{array}$$

$$\begin{array}{r} 83 \\ -17 \\ \hline \end{array}$$

$$\begin{array}{r} 32 \\ -16 \\ \hline \end{array}$$

$$\begin{array}{r} 76 \\ -28 \\ \hline \end{array}$$

$$\begin{array}{r} 54 \\ -57 \\ \hline \end{array}$$

$$\begin{array}{r} 61 \\ -43 \\ \hline \end{array}$$

$$\begin{array}{r} 28 \\ +18 \\ \hline \end{array}$$

$$\begin{array}{r} 43 \\ +37 \\ \hline \end{array}$$

$$\begin{array}{r} 85 \\ +46 \\ \hline \end{array}$$

$$\begin{array}{r} 36 \\ +14 \\ \hline \end{array}$$