







मॉडल पेपर द्वितीय सत्र परीक्षा 2019-20






मिशन शिक्षण संवाद

संवाद

 मिशन शिक्षण संवाद मॉडल पेपर द्वितीय सत्र परीक्षा 2019-20 नाम - रोपना -	 मिशन शिक्षण संवाद मॉडल पेपर द्वितीय सत्र परीक्षा 2019-20 नाम - रोपना -	 मिशन शिक्षण संवाद मॉडल पेपर द्वितीय सत्र परीक्षा 2019-20 नाम - रोपना -
<p style="text-align: center;">कक्षा-6 विषय-हिंदी</p> <p>प्रश्न 1- (क) पथ का समानार्थी शब्द है-- अंक 1 (अ) राह (ब) क्षेत्र (स) सर (द) कुँज (ख) पहाड़ का पर्यायवाची नहीं है-- अंक 1 (अ) गिरि (ब) नगेन्द्र (स) जलद (द) शैल प्रश्न 2 (क) शब्दों के अर्थ लिखो-- अंक 1 आरजू , एलान , ओजस्वी , भाल (ख) प्र उपसर्ग से बने दो शब्द लिखो। अंक 1 प्रश्न 03 सोहर लोकगीत कब गाया जाता है? अंक 1 प्रश्न 04 मार्ग पर कठिनाई आने पर क्या करना चाहिए? अंक 1 प्रश्न 05 अपने क्षेत्र में प्रचलित कोई लोकगीत अथवा कोई भक्ति का पद लिखिए। अंक 4</p>	<p style="text-align: center;">कक्षा -6 विषय - संस्कृत</p> <p>प्रश्न 1(क)हिन्दी अर्थ: लिखत। अंक 1 शोभनम् , घटिका , काकः, धीराः। (ख) अधोलिखित पदानां विभक्तिः वचनं च लिखत। अंक 1 इतिहासे , बालिका। प्रश्न 2 निम्नलिखित अनाजों के संस्कृत नाम लिखिए।अंक 2 गेहूँ, चना, सरसों, धान। प्रश्न 3 मंजूषात पदानि चित्वा वाक्यानि पूरयत।अंक -2 (नीत्वा , पठित्वा, श्रुत्वा, पीत्वा) (क) रमा विद्यालयात्-----आगच्छति। (ख)बालकः कथां-----शैते। (ग)मोहनः दुग्धं -----क्रीडति। (घ) पक्षिणः तृणं -----उत्पतन्ति। प्रश्न 4 एकपदेन उत्तरत--अंक-2 (क) तृषापीडितः कः आसीतः? (ख)अनृतं केन जयेत्? प्रश्न-5 पठ् धातु लट्लकार(वर्तमान काल) के प्रथमपुरुष के सभी वचनों के रूप लिखिए। अंक-2</p>	<p style="text-align: center;">कक्षा-6 विषय-सामाजिक विषय</p> <p>प्रश्न 1-अर्थशास्त्र की रचना किया था-(1 अंक) (A) कल्हण(B)कौटिल्य (C)कम्बन(D)मेगस्थनीज प्रश्न 2 -भारत की पहली नगरीय सभ्यता कौन-सी थी?(1अंक) प्रश्न 3 -कागज़ का आविष्कार सर्वप्रथम कहाँ हुआ?(1अंक) प्रश्न 4 -भारत का आदर्श वाक्य 'सत्यमेव जयते' किस उपनिषद् से लिया गया है? (1अंक) प्रश्न 5 -हमारा राजचिन्ह क्या है?(1अंक) प्रश्न 6 -जिले में प्राथमिक शिक्षा की व्यवस्था कौन करता है?(1अंक) प्रश्न 7 -सही जोड़े बनाइये (2अंक) सर्वोच्च पर्वत शिखर----नील सबसे गहरा गर्त----एण्डीज सबसे लम्बी नदी----एवरेस्ट सबसे लम्बी पर्वत श्रृंखला----मेरियाना प्रश्न 8 -उत्तर प्रदेश राज्य के सभी पड़ोसी राज्यों व उनकी राजधानियों के नाम लिखिए। अथवा विविधता में एकता से आप क्या समझते हैं?स्पष्ट कीजिए।(2अंक)</p>

 मिशन शिक्षण संवाद मॉडल पेपर द्वितीय सत्र परीक्षा 2019-20 नाम - रोलनं०-	 मिशन शिक्षण संवाद मॉडल पेपर द्वितीय सत्र परीक्षा 2019-20 नाम - रोलनं०-	 मिशन शिक्षण संवाद मॉडल पेपर द्वितीय सत्र परीक्षा 2019-20 नाम - रोलनं०-
<p style="text-align: center;">कक्षा -6 विषय-विज्ञान</p> <p>प्रश्न 1-ओजोन पर्त में छिद्र का कारण है-(1 अंक) (A)जल प्रदूषण (B)वायु प्रदूषण (C)ध्वनि प्रदूषण(D)इनमें से कोई नहीं</p> <p>प्रश्न 2-कुम्हार के चाक में कौन-सी गति होती है?(1अंक)</p> <p>प्रश्न 3-स्वस्थ मानव के शरीर का ताप कितना होता है?(1अंक)</p> <p>प्रश्न 4-लम्बाई,द्रव्यमान,समय तथा ताप के मात्रक लिखिए।(1अंक)</p> <p>प्रश्न 5-निम्नलिखित कथनों को पढ़कर उनके सामने सही के लिए सही का (✓) तथा गलत के लिए गलत (X) का चिन्ह लगाइये-(2अंक) क-अमीबा बहुकोशिकीय जीव है। () ख-पक्षियों की हड्डी खोखली तथा वायु से भरी होती है।() ग-पुरुष में एक जोड़ी वृषण पाये जाते हैं।()</p> <p>प्रश्न6-सही जोड़े बनाइये-(2 अंक) क-मेंढक-----अ- श्रवण ख-त्वचा-----ब- पादजाल ग-कान-----स- उड़ना</p>	<p style="text-align: center;">कक्षा -6 विषय-गणित</p> <p>प्रश्न 1- 5, 3, 8, 1 से बनने वाली चार अंकों की सबसे छोटी संख्या है(1 अंक) (A) 3158(B)1358 (C)8531(D)5831</p> <p>प्रश्न 2- 27 की पूर्ववर्ती प्राकृतिक संख्या लिखिये।(1अंक)</p> <p>प्रश्न 3-सबसे छोटी पूर्ण संख्या कौन-सी है?लिखिये।(1अंक)</p> <p>प्रश्न 4-मान ज्ञात कीजिए--(1अंक) $(-8) \times (+57) \times 0$</p> <p>प्रश्न 5-सरल कीजिए--(2अंक) $121 \div [16 - \{14 - 3(9 - 6)\}]$</p> <p>प्रश्न 6-पटरी और परकार की सहायता से 120° के कोण की रचना कीजिए।(2अंक)</p> <p>प्रश्न 7-त्रिभुज ABC की रचना कीजिए जबकि $AB=6$ सेमी, $BC=8$ सेमी तथा $AC=4$ सेमी (2अंक)</p>	<p style="text-align: center;">कक्षा -6 Subject-English</p> <p>Q.1 What kind of boy was Kunal? (1mark) A) clever B) honest C) careless D) lazy</p> <p>Q.2 Which Indian freedom fighter is called as *Neta ji*? (1mark) A)MK Gandhi B)APJ Abdul Kalam C) SC Bose D) N Modi</p> <p>Q.3 What makes the Ocean mighty? (1mark)</p> <p>Q.4 Why did Kunal needs a pen? (1mark)</p> <p>Q.5 Write a rhyming word for-(2marks) 1) sand-land- 2) drop- crop-</p>

 मिशन शिक्षण संवाद मॉडल पेपर द्वितीय सत्र परीक्षा 2019-20 नाम - रोजना-	 मिशन शिक्षण संवाद मॉडल पेपर द्वितीय सत्र परीक्षा 2019-20 नाम - रोजना-	 मिशन शिक्षण संवाद मॉडल पेपर द्वितीय सत्र परीक्षा 2019-20 नाम - रोजना-
<p style="text-align: center;">कक्षा - 6 विषय-गृह शिल्प</p> <p>प्रश्न 1-विश्व शौचालय दिवस मनाया जाता है (1 अंक) (A) 19सितम्बर (B)19अक्तूबर (C)19नवम्बर (D)19 दिसम्बर</p> <p>प्रश्न 2-संतुलित आहार किसे कहते हैं?(1अंक)</p> <p>प्रश्न 3-विटामिन 'A' की कमी से कौन-सा रोग होता है?(1अंक)</p> <p>प्रश्न 4-प्रदूषण किसे कहते हैं?(1अंक)</p> <p>प्रश्न 5-डॉक्टर के आने से पहले दिया जाने वाला उपचार क्या कहलाता है? (1अंक)</p> <p>प्रश्न 6-प्राथमिक चिकित्सा पेटी से आप क्या समझते हैं?(2अंक)</p> <p>प्रश्न 7-काज बनाने की प्रक्रिया लिखिए।(3अंक)</p> <p style="text-align: center;">*अथवा*</p> <p>गैस के चूल्हे पर खाना पकाने में क्या-क्या सावधानियाँ रखनी चाहिए?</p>	<p style="text-align: center;">कक्षा - 6 विषय-कृषि विज्ञान</p> <p>प्रश्न 1-सूक्ष्म पोषक तत्व है (1 अंक) (A) नाइट्रोजन (B)पोटाश (C)फॉस्फोरस(D)जिंक</p> <p>प्रश्न 2-आम्रपाली और मल्लिका किस फल की किस्में हैं?(1अंक)</p> <p>प्रश्न 3-बाग क्यों लगाते हैं?(1अंक)</p> <p>प्रश्न 4-गेहूँ की दो उन्नतशील किस्मों के नाम लिखिए।(1अंक)</p> <p>प्रश्न 5-एट्राजिन क्या है?(1अंक)</p> <p>प्रश्न 6-उत्तर प्रदेश की प्रमुख मृदाओं के नाम लिखिए।(2अंक)</p> <p>प्रश्न 7-गेहूँ की फसल में सिंचाई प्रबन्धन का वर्णन कीजिए।(3अंक)</p> <p style="text-align: center;">*अथवा*</p> <p>खाद को वर्गीकृत करते हुए हरी खाद बनाने की विधि का वर्णन कीजिए।</p>	<p style="text-align: center;">कक्षा - 6 विषय-हमारा पर्यावरण</p> <p>प्रश्न 1-अपना भोजन स्वयं बनाने वाले जीव-जन्तु कहलाते हैं (1 अंक) (A) परजीवी (B)परपोषी (C)स्वपोषी (D)मृतोपजीवी</p> <p>प्रश्न 2-सूर्य के प्रकाश से कौन-सा विटामिन मिलता है?(1अंक)</p> <p>प्रश्न 3-भूमिगत जल किसे कहते हैं? (1अंक)</p> <p>प्रश्न 4-विश्व वन दिवस कब मनाया जाता है?(1अंक)</p> <p>प्रश्न 5-रिक्त स्थानों की पूर्ति कीजिए- (2अंक) क-डेंगू का वाहक.....जाति का मच्छर है। ख-श्वसन क्रिया में जीव-----गैस उपयोग करते हैं।</p> <p>प्रश्न 6-जनसंख्या बढ़ने से कौन-कौन सी समस्याएँ उत्पन्न होती हैं?(2अंक)</p> <p>प्रश्न 7-गैसीय अपशिष्ट के प्रमुख स्रोत क्या-क्या हैं?(2अंक)</p>



मिशन शिक्षण संवाद

मॉडल पेपर द्वितीय सत्र परीक्षा 2019-20
नाम - रोपण-

कक्षा-6
विषय-खेल और स्वास्थ्य

प्रश्न 1-योग के कितने अंग होते हैं?(1 अंक)

(A)6 (B)7

(C)8(D)9

प्रश्न 2-आपको कौन-कौन से खेल पसंद हैं?(1अंक)

प्रश्न 3-व्यायाम का क्या महत्व है? (1अंक)

प्रश्न 4-भस्त्रिका प्राणायाम कैसे किया जाता है?(1अंक)

प्रश्न 5-राष्ट्र ध्वज का केसरिया रंग किसका प्रतीक है?(1अंक)

प्रश्न 6-ओलम्पिक खेलों का प्रारम्भ सर्वप्रथम कहाँ हुआ?(1अंक)

प्रश्न 7-व्यायाम करते समय कौन-कौन सी सावधानियाँ रखनी चाहिए?(2अंक)

प्रश्न 8-खेल में अनुशासन होना क्यों आवश्यक है?(2अंक)



मिशन शिक्षण संवाद




मॉडल पेपर द्वितीय सत्र परीक्षा 2019-20
नाम - रोपण-









मिशन शिक्षण संवाद




मॉडल पेपर द्वितीय सत्र परीक्षा 2019-20
नाम - रोपण-









 मिशन शिक्षण संवाद मॉडल पेपर द्वितीय सत्र परीक्षा 2019-20 नाम - रोडनं०-	 मिशन शिक्षण संवाद मॉडल पेपर द्वितीय सत्र परीक्षा 2019-20 नाम - रोडनं०-	 मिशन शिक्षण संवाद मॉडल पेपर द्वितीय सत्र परीक्षा 2019-20 नाम - रोडनं०-
<p>कक्षा - 7 विषय-गणित</p> <p>प्रश्न 1-परिमेय संख्या 3/5 से बड़ी परिमेय संख्या है:(1 अंक) (A) 4/10(B) -4/10 (C)6/10 (D)7/10</p> <p>प्रश्न 2- 3 की घात 6 का मान कितना होगा?(1अंक)</p> <p>प्रश्न 3- 11 से 15 तक की प्राकृतिक संख्याओं का समान्तर माध्य ज्ञात कीजिए। (1अंक)</p> <p>प्रश्न 4-महाभास्करीय और लघुभास्करीय नामक ग्रन्थ किसने लिखे हैं?(1अंक)</p> <p>प्रश्न 5- 5 मजदूरों की मजदूरी ₹ 1250 है। 8 मजदूरों के लिए कितनी मजदूरी चाहिए? (1अंक)</p> <p>प्रश्न 6-उस समान्तर चतुर्भुज की ऊँचाई ज्ञात कीजिए, जिससे घिरे क्षेत्र का क्षेत्रफल 2•25 वर्ग मीटर और आधार 25 डेसीमी है।(2अंक)</p> <p>प्रश्न 7- 3000 रुपये का 10% वार्षिक ब्याज की दर से 3 वर्ष बाद चक्रवृद्धि मिश्रधन तथा चक्रवृद्धि ब्याज ज्ञात कीजिए। (3अंक)</p> <p>अथवा</p> <p>यदि किसी त्रिभुज ABC की भुजाओं में 3:4:5 का अनुपात हो,तो उनके समरूप एक त्रिभुज की रचना कीजिए।जिसका आधार 7 सेमी हो।</p>	<p>कक्षा-7 विषय-विज्ञान</p> <p>प्रश्न 1-मलेरिया की दवा किस पौधे से प्राप्त होती है?(1 अंक) (A) सिनकोना (B)नीम (C)कपास (D)सर्पगंधा</p> <p>प्रश्न 2-जल का घनत्व किस ताप पर अधिकतम होता है?(1अंक)</p> <p>प्रश्न 3-यदि आपतन कोण का मान 30° है, परावर्तन कोण का मान ज्ञात कीजिए।(1अंक)</p> <p>प्रश्न 4-यीस्ट में जनन किस विधि से होता है? (1अंक)</p> <p>प्रश्न 5-मनुष्य में प्रमुख उत्सर्जी पदार्थ क्या होता है?(1अंक)</p> <p>प्रश्न 6-श्वेत क्रांति के जनक कौन हैं?(1अंक)</p> <p>प्रश्न 7-रिक्त स्थानों की पूर्ति कीजिए (2अंक) क-.....पृथ्वी पर ऊर्जा का एक मात्र स्रोत है। ख-ड्रोसेरा एक.....पौधा है।</p> <p>प्रश्न 8-रेशम कीट के जीवन-चक्र का सचित्र वर्णन कीजिए।(2अंक)</p> <p>*अथवा*</p> <p>हरे पौधे में प्रकाश-संश्लेषण प्रक्रिया का वर्णन कीजिए।</p>	<p>कक्षा-7 विषय-हमारा पर्यावरण</p> <p>प्रश्न 1-विश्व जल दिवस मनाया जाता है- (1 अंक) (A) 22 जनवरी (B)22 फरवरी (C)22 मार्च (D)22 अप्रैल</p> <p>प्रश्न 2-जल का आपके जीवन में क्या महत्व है?(1अंक)</p> <p>प्रश्न 3-ऊर्जा के कौन-कौन से स्रोत हैं? (1अंक)</p> <p>प्रश्न 4-कूड़ा-करकट जलाने से वायु में किस गैस की मात्रा बढ़ती है?(1अंक)</p> <p>प्रश्न 5-मिलान कीजिए---(2अंक) कीटनाशक-----वायु प्रदूषण दमा-----जल प्रदूषण हैजा-----ध्वनि प्रदूषण चिड़चिड़ापन-----मृदा प्रदूषण</p> <p>प्रश्न 6-पेड़-पौधे पर्यावरण का संतुलन बनाए रखने में किस प्रकार सहायता करते हैं?(2अंक)</p> <p>प्रश्न 7-प्राकृतिक संसाधन कौन-कौन से हैं?वे हमारे लिए किस प्रकार उपयोगी हैं? (2अंक)</p> <p>*अथवा*</p> <p>मृदा प्रदूषण किन कारणों से होता है?</p>




 मिशन शिक्षण संवाद मॉडल पेपर द्वितीय सत्र परीक्षा 2019-20 नाम - रोपना-	 मिशन शिक्षण संवाद मॉडल पेपर द्वितीय सत्र परीक्षा 2019-20 नाम - रोपना-	 मिशन शिक्षण संवाद मॉडल पेपर द्वितीय सत्र परीक्षा 2019-20 नाम - रोपना-
<p style="text-align: center;">कक्षा - 7 विषय-- हिन्दी</p> <p>प्रश्न 01 (क) यूनिफॉर्म शब्द का अर्थ है-- अंक 1 अ- यूनिट , ब- गणवेश, स- कपड़ा. द-- एकता (ख) अव्यय शब्द नहीं है-- अंक 1 अ-- किन्तु। ब-- क्योंकि , स- चिन्ता , द-- अथवा प्रश्न 02 (क) दिए गये शब्दों के अर्थ लिखो- अंक 1 ताप , फर्ज , यकीन , आतंक (ख) विलोम शब्द लिखिए-- अंक 1 मूर्ख , गुण , निर्भीक , लघु प्रश्न 03 ध्रुवस्य जनकः क आसीत्? अंक 2 प्रश्न 04 'भूख की उपेक्षा नहीं की जा सकती' का आशय स्पष्ट करो। अंक 2 प्रश्न 05 अपनी पाठ्य पुस्तक मंजूर से याद की गई कोई आठ पंक्तियों की कविता लिखो।अंक 2</p>	<p style="text-align: center;">कक्षा-7 विषय-- संस्कृत</p> <p>प्रश्न 1 निम्नलिखित पदानि विलोम पदं लिखत- अंक 1 गुरुतरं , मूर्खः प्रश्न 2 संस्कृत भाषायां अनुवादं कुरुत। अंक 2 (क) ज्ञान से आचरण श्रेष्ठ है। (ख) संस्कृत ज्ञान का पुँज है। प्रश्न 3 सन्धिविच्छेदं कुरुत।अंक 2 पदम्। सन्धिविच्छेदं केनापि तदैव वसुधैव समस्यैका प्रश्न 4 पूर्णवाक्येन उत्तरत। अंक 2 (क) विशपला का आसीत्? (ख) विशपला कस्य पत्नी आसीत्? प्रश्न 5 निम्नलिखित कपड़ों के संस्कृत नाम लिखिए।अंक 3 साड़ी, चद्दर , रूमाल ,रजाई, तकिया, तौलिया।</p>	<p style="text-align: center;">कक्षा - 7 Subject- English</p> <p>Q.1 The people belonging to China are called- (1mark) A) Chini B)Chinese C)Chinian D)China Q.2 Rashtriya Swasthya Beema Yojna is related with- (1mark) A) Free education B) Free fooding C) Free treatment for sick D) Free clothing Q.3 Who said these to whom- (2marks) 1) "Your family must have enrolled in Rashtriya Swasthya Beema Yojna" 2) "Throw this man into the river." Q.4 Who was Kabir?(1mark) Q.5 Who is known as "The Lady with the Lamp"?(1mark) Q.6 Why Rubina stopped going to school?(2marks) Q.7 What things a mother does for her child?.(2marks)</p>




 मिशन शिक्षण संवाद मॉडल पेपर द्वितीय सत्र परीक्षा 2019-20 नाम - रोपण-	 मिशन शिक्षण संवाद मॉडल पेपर द्वितीय सत्र परीक्षा 2019-20 नाम - रोपण-	 मिशन शिक्षण संवाद मॉडल पेपर द्वितीय सत्र परीक्षा 2019-20 नाम - रोपण-
<p>कक्षा-7 विषय-खेल और स्वास्थ्य</p> <p>प्रश्न 1-दीपा मलिक किस खेल से सम्बंधित हैं?(1 अंक) (A)दौड़ (B)कुश्ती (C)क्रिकेट (D)शॉटपुट</p> <p>प्रश्न 2-ओलंपिक ध्वज में कितने गोले होते हैं?(1अंक)</p> <p>प्रश्न 3-राष्ट्र ध्वज का केसरिया रंग किसका प्रतीक है?(1अंक)</p> <p>प्रश्न 4-मनुष्य एक मिनट में कितनी बार श्वास लेता है?(1अंक)</p> <p>प्रश्न 5-योग का क्या अर्थ है?(1अंक)</p> <p>प्रश्न 6-रिक्त स्थानों की पूर्ति कीजिए-- (2अंक) (क)नियमित प्राणायाम करने सेऔर.....बढ़ती है। (ख)विंध्ययमुना गंगा, उच्छल.....तरंग। (ग)पढ़ना और ज्ञान प्राप्त करना.....कार्यके अन्तर्गत आते हैं। (घ)भोजन हमारे शरीर कोप्रदान करता है।</p> <p>प्रश्न 7-किसी एक स्थानीय खेल के मैदान का चित्र,नाप सहित बनाइये।(3अंक) *अथवा*</p> <p>राष्ट्रगान की रचना किसने की थी?राष्ट्रगान गाते समय किन-किन बातों को ध्यान में रखना चाहिए?</p>	<p>कक्षा - 7 विषय-गृह शिल्प</p> <p>प्रश्न 1-संतुलित आहार के विभिन्न पोषक तत्व हैं-(1 अंक) (A) प्रोटीन (B)वसा (C)कार्बोहाइड्रेट (D)उपर्युक्त सभी</p> <p>प्रश्न 2-विश्व पर्यावरण दिवस कब मनाया जाता है?(1अंक)</p> <p>प्रश्न 3-सी• एन• जी• का पूरा नाम क्या है? (1अंक)</p> <p>प्रश्न 4-कपड़ों की फिटिंग के लिए क्या डालते हैं?(1अंक)</p> <p>प्रश्न 5-क्रोशिया कितने प्रकार की होती है? (1अंक)</p> <p>प्रश्न 6-रिक्त स्थानों की पूर्ति कीजिए--- (2अंक) क-भोजन परोसने का स्थान.....होना चाहिए। ख-कुपोषण से ग्रस्त लोगहोते हैं। ग-भोपाल गैस त्रासदी में.....गैस का रिसाव हुआ था। घ-क्रोशिया केमें धागा फँसाया जाता है।</p> <p>प्रश्न 7-चने जैसी बुनाई के नमूने की विधि लिखिए।(3अंक) *अथवा*</p> <p>भोज्य पदार्थ के संरक्षण के उपाय लिखिए</p>	<p>कक्षा - 7 विषय-कृषि विज्ञान</p> <p>प्रश्न 1-जटिल उर्वरक कितने प्रकार के होते हैं?(1अंक) (A)2 (B)3 (C)4(D)5</p> <p>प्रश्न 2-बाजरे का उत्पादन प्रति हेक्टेयर कितना होता है?(1अंक)</p> <p>प्रश्न 3-देशी हल का चित्र बनाइये। (1अंक)</p> <p>प्रश्न 4-मृदा कणों का आकार कैसा होता है?(1अंक)</p> <p>प्रश्न 5-सीढ़ीदार खेती से क्या समझते हैं?(1अंक)</p> <p>प्रश्न 6-भू-क्षरण किन-किन कारकों द्वारा होता है?(2अंक)</p> <p>प्रश्न 7-जल ही जीवन है।क्यों कहा जाता है?(3अंक) *अथवा*</p> <p>आलू के बोनो का समय तथा बीज की मात्रा का वर्णन कीजिए।</p>

 मिशन शिक्षण संवाद मॉडल पेपर द्वितीय सत्र परीक्षा 2019-20 नाम - रोपण0-	 मिशन शिक्षण संवाद मॉडल पेपर द्वितीय सत्र परीक्षा 2019-20 नाम - रोपण0-	 मिशन शिक्षण संवाद मॉडल पेपर द्वितीय सत्र परीक्षा 2019-20 नाम - रोपण0-
<p>कक्षा - 7 विषय-सामाजिक विषय</p> <p>प्रश्न 1-लाखबख्श के नाम से प्रसिद्ध है-(1 अंक) (A)इल्तुतमिश (B)अकबर (C)कुतुबुद्दीन ऐबक(D)औरंगजेब</p> <p>प्रश्न 2-'सार्वजनिक वितरण प्रणाली' को शुरू करने वाला प्रथम शासक कौन था? (1अंक)</p> <p>प्रश्न 3-पानीपत का प्रथम युद्ध किनके मध्य लड़ा गया?(1अंक)</p> <p>प्रश्न 4-फतेहपुर सीकरी का निर्माण किसने करवाया था?(1अंक)</p> <p>प्रश्न 5-उत्तर प्रदेश का विधान सभा भवन कहाँ स्थित है?(1अंक)</p> <p>प्रश्न 6-पृथ्वी की आंतरिक परतों के नाम लिखिए?(1अंक)</p> <p>प्रश्न 7-सही जोड़े बनाइये--2अंक एटना -----भ्रंश घाटी कोटोपैक्सी-----वलित पर्वत नर्मदा नदी -----सबसे ऊँचा ज्वालामुखी हिमालय-----इटली</p> <p>प्रश्न 8-विश्व के रिक्त मानचित्र पर सवाना प्रदेश को छायांकित कीजिए।(2अंक)</p> <p>अथवा अकबर ने अपना साम्राज्य बढ़ाने के लिए क्या नीति अपनाई?</p>		

 मिशन शिक्षण संवाद मॉडल पेपर द्वितीय सत्र परीक्षा 2019-20 नाम - रोजना-	 मिशन शिक्षण संवाद मॉडल पेपर द्वितीय सत्र परीक्षा 2019-20 नाम - रोजना-	 मिशन शिक्षण संवाद मॉडल पेपर द्वितीय सत्र परीक्षा 2019-20 नाम - रोजना-												
<p style="text-align: center;">कक्षा-8 विषय-कृषि विज्ञान</p> <p>प्रश्न 1-जलवायु का अध्ययन किस विज्ञान के अंतर्गत आता है?(1 अंक) (A)जीव विज्ञान (B)सस्य विज्ञान (C)जलवायु विज्ञान (D)वनस्पति विज्ञान</p> <p>प्रश्न 2-आंधी एवं तूफान में क्या अन्तर है? (1अंक)</p> <p>प्रश्न 3-हार्वेस्टर क्या है?(1अंक)</p> <p>प्रश्न 4-गन्ने की अच्छी पैदावार हेतु प्रति हेक्टेयर कितनी नाइट्रोजन की आवश्यकता होती है?(1अंक)</p> <p>प्रश्न 5-गाय के दूध का पीला रंग किसके कारण होता है?(1अंक)</p> <p>प्रश्न 6-बाग में पौधा लगाते समय किन-किन बिन्दुओं पर ध्यान देना जरूरी है? (2अंक)</p> <p>प्रश्न 7-स्तम्भ 'क' को स्तम्भ 'ख' से मिलाइये।(3अंक)</p> <table style="width: 100%; border: none;"> <tr> <td style="width: 50%;">स्तम्भ (क)</td> <td style="width: 50%;">स्तम्भ (ख)</td> </tr> <tr> <td>चीन</td> <td>तूफान</td> </tr> <tr> <td>मैक्सिको की खाड़ी</td> <td>टाइफून</td> </tr> <tr> <td>अफ्रीका</td> <td>साइक्लोन</td> </tr> <tr> <td>बंगाल की खाड़ी</td> <td>टारनिडो</td> </tr> <tr> <td>भारत</td> <td>हरिकेन</td> </tr> </table> <p style="text-align: center;">अथवा</p> <p>मेस्टन हल का सचित्र वर्णन कीजिए?</p>	स्तम्भ (क)	स्तम्भ (ख)	चीन	तूफान	मैक्सिको की खाड़ी	टाइफून	अफ्रीका	साइक्लोन	बंगाल की खाड़ी	टारनिडो	भारत	हरिकेन	<p style="text-align: center;">कक्षा-8 विषय - गृह शिल्प</p> <p>प्रश्न 1-विश्व मलेरिया दिवस मनाया जाता है (1 अंक) (A)25 अप्रैल (B)25 मई (C)25 जून (D)25 जुलाई</p> <p>प्रश्न 2-पिसी मिर्च में किसकी मिलावट की जाती है?(1अंक)</p> <p>प्रश्न 3-प्राथमिक चिकित्सा किसे कहते हैं? (1अंक)</p> <p>प्रश्न 4-वस्त्र कितने प्रकार के होते हैं? (1अंक)</p> <p>प्रश्न 5-रिक्त स्थानों की पूर्ति कीजिए-(2अंक) क-गुजरात प्रदेश की कढ़ाई •••••है। ख-मशीन में तेल डालते समय •••••को ऊँचा कर लेना चाहिए। ग-एक स्वस्थ व्यक्ति का औसत तापमान •••••फारेनहाइट रहता है। घ-बालों की सफाई •••••स्वच्छता है।</p> <p>प्रश्न 6-रक्ताल्पता के कोई चार लक्षण लिखिए।(2अंक)</p> <p>प्रश्न 7-घरेलू विधि में पदार्थों को संरक्षण कैसे करते हैं?(2अंक)</p> <p style="text-align: center;">अथवा</p> <p>अपनी पसंद से कोई एक डिजाइन बनाने की विधि लिखिए।</p>	<p style="text-align: center;">कक्षा -8 विषय-खेल और स्वास्थ्य</p> <p>प्रश्न 1-डॉक्टरों के अनुसार मुँह के कैंसर के कितने प्रतिशत मामले तम्बाकू,गुटका चबाने के होते हैं? (1 अंक) (A)80% (B)85% (C)90%(D)100%</p> <p>प्रश्न 2-डोपिंग किसे कहते हैं?(1अंक)</p> <p>प्रश्न 3-निर्जलीकरण किसे कहते हैं? (1अंक)</p> <p>प्रश्न 4-'वॉलीबॉल' खेल में प्रत्येक टीम में कितने-कितने खिलाड़ी होते हैं? (1अंक)</p> <p>प्रश्न 5-पी•वी• सिंधू किस खेल से सम्बंधित हैं?(1अंक)</p> <p>प्रश्न 6-सर्वांगासन करने का तरीका बताइये।(2अंक)</p> <p>प्रश्न 7-प्राणायाम किसे कहते हैं? प्राणायाम के पाँच लाभ बताएँ।(3अंक)</p> <p style="text-align: center;">अथवा</p> <p>हॉकी या कबड्डी के मैदान का चित्र बनाइये।</p>
स्तम्भ (क)	स्तम्भ (ख)													
चीन	तूफान													
मैक्सिको की खाड़ी	टाइफून													
अफ्रीका	साइक्लोन													
बंगाल की खाड़ी	टारनिडो													
भारत	हरिकेन													

 मिशन शिक्षण संवाद मॉडल पेपर द्वितीय सत्र परीक्षा 2019-20 नाम - रोपण0-	 मिशन शिक्षण संवाद मॉडल पेपर द्वितीय सत्र परीक्षा 2019-20 नाम - रोपण0-	 मिशन शिक्षण संवाद मॉडल पेपर द्वितीय सत्र परीक्षा 2019-20 नाम - रोपण0-
<p style="text-align: center;">कक्षा-8 विषय - हिन्दी</p> <p>प्रश्न --01 (क) सोना पाठ की लेखिका हैं। अंक 1 अ- महाश्वेता ब- महादेवी वर्मा स-- शिवानी द-- मीरा</p> <p>प्रश्न 1 (ख) निम्नलिखित संस्कृत शब्दों के अर्थ लिखो। अंक 1 तिमिरः, निकरः ।</p> <p>प्रश्न 02 प्रिय प्रत्यय जोड़कर नये शब्द बनाइए। अंक -- 2 जन , लोक , सत्य , न्याय।</p> <p>प्रश्न 03 निम्नलिखित शब्दों के दो- दो पर्यायवाची शब्द लिखो- अंक 2 गंगा , नदी , पर्वत , बेटी।</p> <p>प्रश्न 04 सोना जंगल के परिवेश से गाँव में कैसे आ गई? अंक 02</p> <p>प्रश्न 05 अपनी पाठ्य पुस्तक मँजरी से याद की हुई कोई 8 पंक्तियों की कविता लिखो। अंक 2</p>	<p style="text-align: center;">कक्षा-8 Subject- English</p> <p>Q.1 Who is known as the "Queen of Indian Track and Fields"? (1mark) A) PT Usha B) Sania Mirza C) Arunima Sinha D) Sachin Tendulkar</p> <p>Q.2 If 'light of the moon' is Moonlight then '*work to be done at home*' is -(1mark) A) classroom B) homework C) hardwork D) sunshine</p> <p>Q.3 Which planet is known as Red Planet?(1mark)</p> <p>Q.4 Name the person who gave India wings?(1mark)</p> <p>Q.5 Name two Sportswomen who gave glory to our country. Also mention their sports with which they are associated. (3marks)</p> <p>Q.6 Name the planets of our solar system.(3marks)</p>	<p style="text-align: center;">कक्षा -8 विषय - संस्कृत</p> <p>प्रश्न 1 - रिक्त स्थानों की पूर्ति करो। अंक 2 (क) प्रियं भारतं ----- दर्शनीयम् (ख) इदं भारतं ----- तुल्यम्।</p> <p>प्रश्न 2 - अधोलिखितानि शब्दानि हिन्दी अर्थः लिखत। अंक 2 प्रयच्छ, हिमाद्रि, शुभ्रम्, ललामम्।</p> <p>प्रश्न 3 - एकपदेन उत्तरत--अंक 2 (क) जलाशये बहवः के सन्ति? (ख) महाभारतस्य युद्धः कति दिनानि यावत् प्राचलत्?</p> <p>प्रश्न 4 सन्धिं कृत्वा लिखत। अंक- 2 (क) सु+ आगतम् (ख) अयम्+ अस्ति (ग) नरः + अपराणि (घ) सृजामि+अहम्</p> <p>प्रश्न 5 एक से दस तक की संख्याओं को संस्कृत में लिखो। अंक-2</p>

 मिशन शिक्षण संवाद मॉडल पेपर द्वितीय सत्र परीक्षा 2019-20 नाम - रोजना-	 मिशन शिक्षण संवाद मॉडल पेपर द्वितीय सत्र परीक्षा 2019-20 नाम - रोजना-	 मिशन शिक्षण संवाद मॉडल पेपर द्वितीय सत्र परीक्षा 2019-20 नाम - रोजना-
<p style="text-align: center;">कक्षा-8 विषय-गणित</p> <p>प्रश्न 1- -3 और 4 के ठीक बीच स्थित परिमेय संख्या है:(1 अंक) (A) 1/2(B) - 7/2 (C) 7/2(D) -1/2</p> <p>प्रश्न 2- छह अंकों की संख्या के वर्गमूल में अंकों की संख्या बताइये।(1अंक)</p> <p>प्रश्न 3- एक घनाकार बक्से का आयतन 8000 घन सेमी है।इसकी एक भुजा ज्ञात कीजिए।(1अंक)</p> <p>प्रश्न 4- 20,24,28,19 का अवरोही क्रम क्या है? (1अंक)</p> <p>प्रश्न 5- चेक कितने प्रकार के होते हैं? लिखिए(1अंक)</p> <p>प्रश्न 6- 3 मेज और 5 कुर्सी का मूल्य ₹1000 है,और 5 मेज और 2 कुर्सी का मूल्य ₹ 970 है।एक मेज और एक कुर्सी का अलग-अलग मूल्य ज्ञात कीजिए। (2अंक)</p> <p>प्रश्न 7- एक गाँव की जनसंख्या प्रतिवर्ष 5% बढ़ जाती है।यदि इस समय उस गाँव की जनसंख्या 4410 हो, तो 2 वर्ष पूर्व उस गाँव की जनसंख्या कितनी थी? (3अंक)</p> <p style="text-align: center;">अथवा</p> <p>2•5 सेमी त्रिज्या तथा O केन्द्र वाला एक वृत्त खींचिए।इस वृत्त पर दो बिन्दु A और B इस प्रकार लीजिए कि कोण AOB=60°। बिन्दुओं A और B से वृत्त की स्पर्श रेखाएँ क्रमशः AP तथा BP खींचिए।कोण APB नापकर लिखिए।</p>	<p style="text-align: center;">कक्षा-8 विषय-विज्ञान</p> <p>प्रश्न 1-दाब का मात्रक है (1 अंक) (A)न्यूटन-मीटर (B)किलोग्राम (C)जूल(D)न्यूटन/मीटर स्क्वायर</p> <p>प्रश्न 2-फलों को पकाने के लिए कौन-सा हार्मोन उपयोग किया जाता है?(1अंक)</p> <p>प्रश्न 3-द्विलिंगी किसे कहते हैं?उदाहरण दीजिए। (1अंक)</p> <p>प्रश्न 4-हमारे देश में लड़के और लड़कियों के विवाह के लिए न्यूनतम आयु कितनी निर्धारित की गई है?(1अंक)</p> <p>प्रश्न 5-रिक्त स्थानों की पूर्ति कीजिए--(2अंक) क-मिशन इन्द्रधनुष का उद्देश्य सभी बच्चों का.....करना है। ख-जनन परिपक्वतामें आती है। ग-जन्तुओं में हार्मोन्सद्वारा स्रावित होते हैं। घ-राइजोबियम जीवाणुका स्थिरीकरण करते हैं।</p> <p>प्रश्न 6-सुमेलित कीजिए---(2अंक) क• मलेरिया अ•कवक ख• एड्स। ब•जीवाणु ग• टायफाइड स•विषाणु घ• दाद। द•प्रोटोजोआ</p> <p>प्रश्न 7-शिक्षा के क्षेत्र में आई• सी• टी• की क्या भूमिका है?(2अंक)</p> <p style="text-align: center;">अथवा</p> <p>उचित किरण आरेख खींचते हुए उत्तल लेंस तथा अवतल लेंस की फोकस दूरी की परिभाषा लिखिए।</p>	<p style="text-align: center;">कक्षा - 8 विषय-हमारा पर्यावरण</p> <p>प्रश्न 1-विश्व एड्स दिवस मनाया जाता है (1 अंक) (A)1 अक्तूबर (B)1 नवम्बर (C)1 दिसम्बर (D)1 जनवरी</p> <p>प्रश्न 2-प्राकृतिक संसाधन कौन-कौन से हैं?(1अंक)</p> <p>प्रश्न 3-'ग्रीन मफलर' किसे कहते हैं? (1अंक)</p> <p>प्रश्न 4-पृथ्वी पर उपस्थित कुल जल का कितने प्रतिशत भाग खारे समुद्री जल के रूप में है?(1अंक)</p> <p>प्रश्न 5-उत्तर प्रदेश में 'ऑपरेशन ग्रीन योजना' कब शुरू की गयी थी?(1अंक)</p> <p>प्रश्न 6-सही कथन के सामने सही(✓) और गलत कथन के सामने गलत(×) का चिन्ह लगाइये--(2अंक) क--गिद्ध एक विलुप्त प्रजाति है। () ख--तृतीय चरण के उपभोक्ता,अपमार्जक कहलाते हैं। () ग--मनुष्य पर्यावरण का अंग नहीं है। () घ--पीलिया विषाणु द्वारा होता है। ()</p> <p>प्रश्न 7-पर्यावरणीय असंतुलन के दुष्परिणाम लिखें।(3अंक)</p> <p style="text-align: center;">अथवा</p> <p>ठोस,द्रव और गैसीय अपशिष्ट में अन्तर बताते हुए इसके दो-दो उदाहरण लिखिए।</p>

 मिशन शिक्षण संवाद मॉडल पेपर द्वितीय सत्र परीक्षा 2019-20 नाम - रोजना-	 मिशन शिक्षण संवाद मॉडल पेपर द्वितीय सत्र परीक्षा 2019-20 नाम - रोजना-	 मिशन शिक्षण संवाद मॉडल पेपर द्वितीय सत्र परीक्षा 2019-20 नाम - रोजना-
<p>कक्षा-8 विषय-समाजिक विषय</p> <p>प्रश्न 1-विलय नीति का सम्बन्ध है (1 अंक) (A) लॉर्ड कार्नवालिस से(B)लॉर्ड वेलेजली से (C)लॉर्ड डलहौजी से(D)लॉर्ड मिण्टो से</p> <p>प्रश्न 2-"एशियाटिक सोसाइटी" की स्थापना किसने की थी?(1अंक)</p> <p>प्रश्न 3-संयुक्त राष्ट्र संघ की स्थापना कब की गई थी?(1अंक)</p> <p>प्रश्न 4-लौह पुरुष किसे कहा जाता है? (1अंक)</p> <p>प्रश्न 5-नरौरा परमाणु ऊर्जा केन्द्र कहाँ स्थित है?(1अंक)</p> <p>प्रश्न 6-रिक्त स्थानों की पूर्ति कीजिए:(2अंक) क• उत्तर प्रदेश में बॉक्साइट.....जनपद में पाया जाता है। ख• अर्जेंटीना में घास के मैदान कोकहते हैं। ग• रेल के डिब्बेमें बनाए जाते हैं। घ• बॉक्साइटधातु का अयस्क है।</p> <p>प्रश्न 7-1857 ई• की क्रान्ति की असफलता के कारण लिखिए।(3अंक)</p> <p>अथवा</p> <p>उत्तर प्रदेश के रिक्त मानचित्र पर प्रदेश के खनिज उत्पादन के क्षेत्रों को छायांकित कीजिए।</p>	