



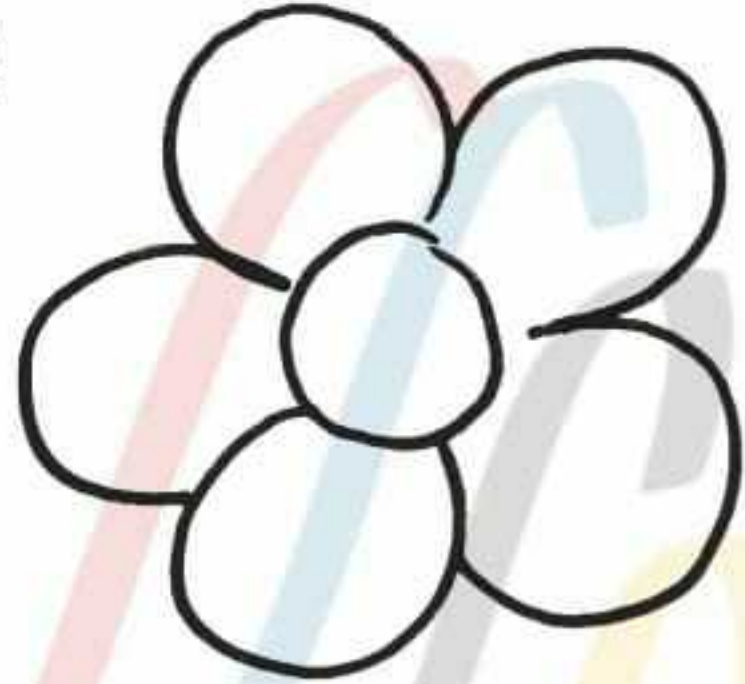
मिशन शिक्षण संवाद

आओ बच्चों '3' से फूल बनाएं

1




2



3



4



केवल अन्तिम रंगीन चित्र कॉपी पर बनाएं।

9458278429



मिशन शिक्षण संवाद

'ए' की मात्रा लगा कर एक से अनेक बनाओ।

एक अनेक एक अनेक

केला केले

1.बेटा

2.लड़का

3.तारा

4.ताला

5.हमारा

6.मेरा

7.जूता

8.गमला

वर्ग पहेली में शरीर के पाँच अंगों के नाम खोजो

अभ्यास कार्य

हों ठ क ग म औ जी भ
पा ग हा ज ध ख थ य
रा झ थ का न प व ई
पै र स श ष ज ठ म
ह द ख च ब स ना क

1.इस पाठ में कौन से शब्द इन अक्षरों से बने हैं।

प - - - - -
ब - - - - -
म - - - - -

2.अपने घर के किसी बर्तन का चित्र बनाओ।



मिशन शिक्षण संवाद

बच्चों! आपने आकृतियों के बारे में सीखा। आज विभिन्न आकृतियों एवं उनकी विशेषताओं के बारे में जानेंगे-

👉 जो वस्तुयें गेंद जैसी गोल आकार की होती हैं, उन्हें गोलाकार कहते हैं।

👉 जो वस्तुयें माचिस के जैसी हैं उन्हें घनाभाकार कहते हैं।

👉 जिस घनाभ की लंबाई, चौड़ाई और ऊंचाई बराबर होती है, उसे घनाकार कहते हैं। जैसे-पासा।

👉 जो वस्तुयें बेलन जैसी आकार की होती हैं, उन्हें बेलनाकार कहते हैं।

👉 जो वस्तुयें गाजर, आइसक्रीम-कोन के आकार की होती हैं, उन्हें शंक्वाकार कहते हैं।

गतिविधि

सोचो और लिखो-
गोलाकार वस्तुयें-

घनाभाकार वस्तुयें-

घनाकार वस्तुयें-

बेलनाकार वस्तुयें-

शंक्वाकार वस्तुयें-

गृहकार्य

विभिन्न आकार की वस्तुओं के चित्र बनायें तथा उनमें रंग भरें।



कार्यपत्रक संख्या : 23 का उत्तर

बच्चे स्वयं से उत्तर लिखें।



मिशन शिक्षण संवाद

Fill in the blanks:

Q.1. What is your name?

Ans. My name is.....

Q.2. What is your father's name?

Ans. My father's name is.....

Q.3. What is your mother's name?

Ans. My mother's name is.....

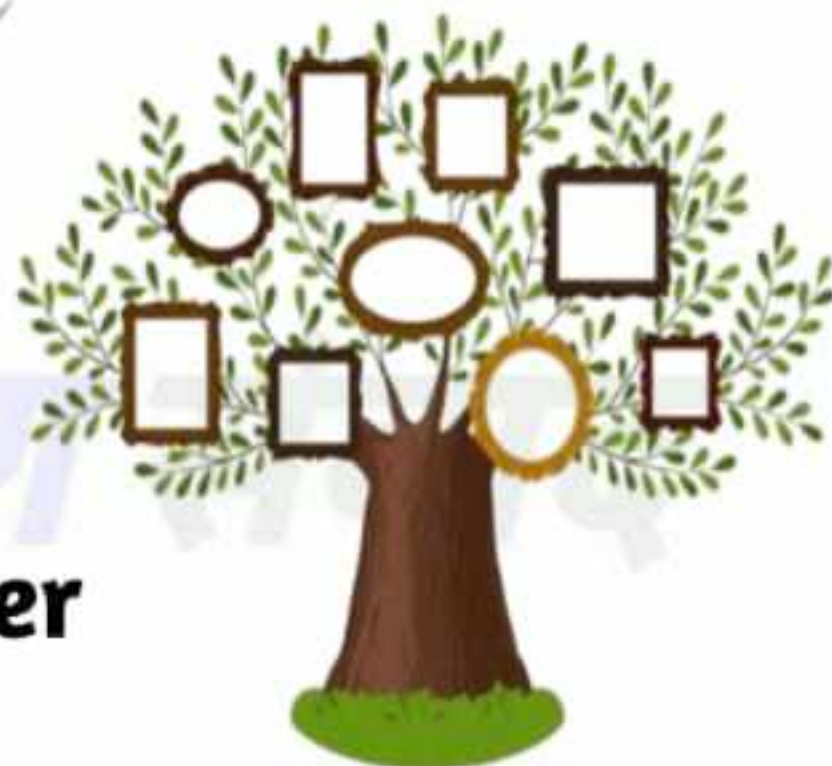
Q.4. How many members are there in your family?

Ans. There are..... members in my Family .

Match their opposites

| | |
|-------------|-------------|
| Father | Sister |
| Grandfather | Girl |
| Brother | Aunt |
| Boy | Wife |
| Husband | Grandmother |
| Uncle | Mother |

Draw this picture and write the name of your family members .



**मिशन शिक्षण संवाद**

बच्चों! आपने आकृतियों के बारे में सीखा। वस्तुओं का जो भाग दिखाई दे रहा है या जिसे हम छू सकते हैं, उस भाग को उस वस्तु का पृष्ठ कहते हैं। वस्तुओं की बनावट की आधार पर उनके पृष्ठों को अलग-अलग नामों से बुलाते हैं। कुछ वस्तुओं में एक ही तरह का पृष्ठ होता है। कुछ वस्तुओं में दो तरह के पृष्ठ होते हैं।

👉 गेंद लुढ़कती है। इसकी बाहरी सतह घुमावदार है, इसे वक्र पृष्ठ कहते हैं। गेंद में एक ही तरह का पृष्ठ है।

👉 माचिस को देखो। यह सरकती है। यह सभी तरफ़ से चौरस या समतल है। इसके पृष्ठ को चौरस या समतल पृष्ठ कहते हैं। इसमें पृष्ठों की संख्या छह होती है।

गतिविधि**वक्र पृष्ठ****समतल पृष्ठ****गृहकार्य**

अपने परिवेश में उपस्थित 2 वक्र पृष्ठ तथा 2 समतल पृष्ठ की वस्तुओं के नाम लिखो।



कार्यपत्रक संख्या : 24 का उत्तर

बच्चे स्वयं से करें।

**मिशन शिक्षण संवाद**

बरसात में दादी माँ के छप्पर से पानी टपक रहा था। ओले भी पड़ रहे थे। बरसात से परेशान होकर एक बाघ कूदते-फाँदते दादी माँ के घर के पास पहुँचा। परेशान दादी माँ टप-टप सुनकर बोली कि उसे बाघ से इतना डर नहीं लगता, जितना 'टपका' से। बाघ ने 'टपका' को अपने से बड़ा जानवर समझा और वह घबराकर भाग गया।

शब्द**अर्थ**

बरसात

वर्षा

परेशान

हैरान

टपकना

गिरना

ओला

बर्फ के पत्थर

झुंझलाना

गुस्साना

अभ्यास कार्य


1. दादी माँ क्यों परेशान थीं ?
2. बाघ किससे डर गया ?
3. बाघ क्यों भाग गया ?
4. बाघ का चित्र देख कर बाघ को बना कर रंग भरो।





मिशन शिक्षण संवाद

Paste the family photographs in the box.



Worksheet 24 answers

Ans.1. My name is Akash.

Ans.2. My father's name is Mr. Suneel singh.

Ans.3. My mother's name is Mrs. Anju singh.

Ans.4. There are four members in my Family .

Opposite word answers

Father - Mother

Grandfather - Grandmother

Brother - Sister

Boy - Girl

Husband - Wife

Uncle - Aunt

Complete these spellings

1. S_N

2. D_U_H_E_

3. N_P_E_

4. N_E_E

5. C_U_I_S



विषय- चित्रकला पाठ-सूरज

कक्षा II, III




प्रकरण- चित्रण व रंग

क्रमांक- 25




मिशन शिक्षण संवाद

आओ बच्चों सूरज बनायें।



अंतिम
रंगीन
सूरज
काँपी
पर
बनायें।



9458278429

निर्माण कार्य करने वाले शिक्षक का नाम- नीरा चौहान प्रा०वि०फुगाना-2, मुजफ्फरनगर



मिशन शिक्षण संवाद

दिए गए अक्षर को जोड़ कर नए शब्द बनाओ

की → डा
→ चड़
→ मत

गी → ला
→ त
→ दड़


जी → रा
→ ना
→ वन

खी → रा
→ झना
→ र

बेमेल शब्द पर(x) निशान बनाओ

- जो सब्जी नहीं है :-
अदरक अजगर कटहल परवल
- जो बर्तन नहीं है :-
कलम जग कलश थरमस
- जिसको पी नहीं सकते :-
जल रस शरबत शहर
- जिसमें रह नहीं सकते :-
घर भवन बत्तख महल
- जो वाहन नहीं हैं :-
रथ बस नल टमटम

अभ्यास कार्य
चित्र में रंग भरो





मिशन शिक्षण संवाद

बच्चों! आपने पिछली कक्षाओं में बंटवारा करना एवं विभिन्न आकृतियों के बारे में सीखा है। अब आप उन्हीं में से कुछ प्रश्नों को हल करके दिखाइए कि आपने कितना सीखा-

- 1- एक टोकरी में 35 लड्डू हैं, यदि 7 लोगों में बांटने हों तो प्रत्येक को कितने-कितने लड्डू मिलेंगे?
- 2- एक डिब्बे में 6 गोलियां हैं। ऐसे 5 डिब्बों में कुल कितनी गोलियां हो जायेंगी?
- 3- 60 केले को 15 बंदरों में बाँटने हों तो प्रत्येक बंदर को कितने केले मिलेंगे?
- 4- एक दर्जी के पास 24 बटन हैं। अगर वह एक कमीज में 4 बटन लगाता हो तो कुल कितने कमीजों में बटन लग जायेंगी?
- 5- गेंद का पृष्ठ कैसा होता है?

गतिविधि

पूर्व में बताई गई विधियों तथा घर एवं परिवेश में उपलब्ध वस्तुओं का प्रयोग कर सभी प्रश्नों को हल करिये।

महत्वपूर्ण बिंदु

- ← वस्तुओं के समूह को बराबर-बराबर भागों में बांटना ही भाग कहलाता है।
- ← किसी वस्तु की कुल संख्या में से एक ही संख्या को बार-बार घटाने की क्रिया भी भाग है।
- ← ऐसी वस्तु जो लुढ़कती है तथा उसकी बाहरी सतह घुमावदार हो, उसके तल को वक्र पृष्ठ कहते हैं।

कार्यपत्रक संख्या : 25 का उत्तर
वक्रपृष्ठ - नीबू, कंचा आदि
समतल पृष्ठ - मेज, संदूक इत्यादि।



मिशन शिक्षण संवाद

Days of the week

Sunday - संडे- रविवार

Monday - मंडे- सोमवार

Tuesday- ट्यूजडे- मंगलवार

Wednesday- वेडनसडे- बुधवार

Thursday- थर्सडे- बृहस्पतिवार

Friday - फ्राइडे- शुक्रवार

Saturday- सैटरडे- शनिवार

Fill in the blanks and complete the names of days

1. S_nd_y

2. M_n_a_

3. T_e_d_y

4. W_d_e_d_y

5. T_u_s_a_

6. F_id_y

7. S_t_rd_y

Let's write

. Today is _____

. Yesterday was _____

. Tomorrow will be _____

Worksheet 25 answers

1. Son

2. Daughter

3. Nephew

4. Niece

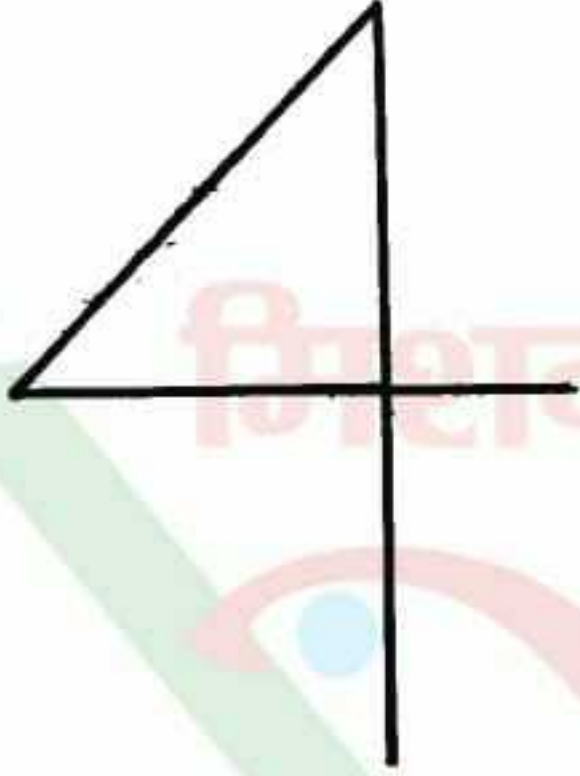
5. Cousins



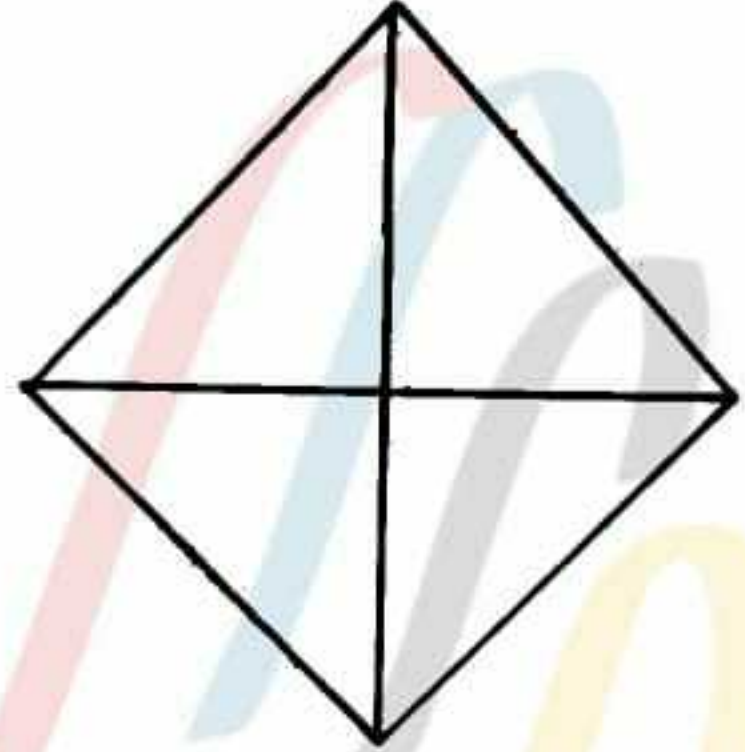
मिशन शिक्षण संवाद

आओ बच्चों '4' से पतंग बनाएं।

1



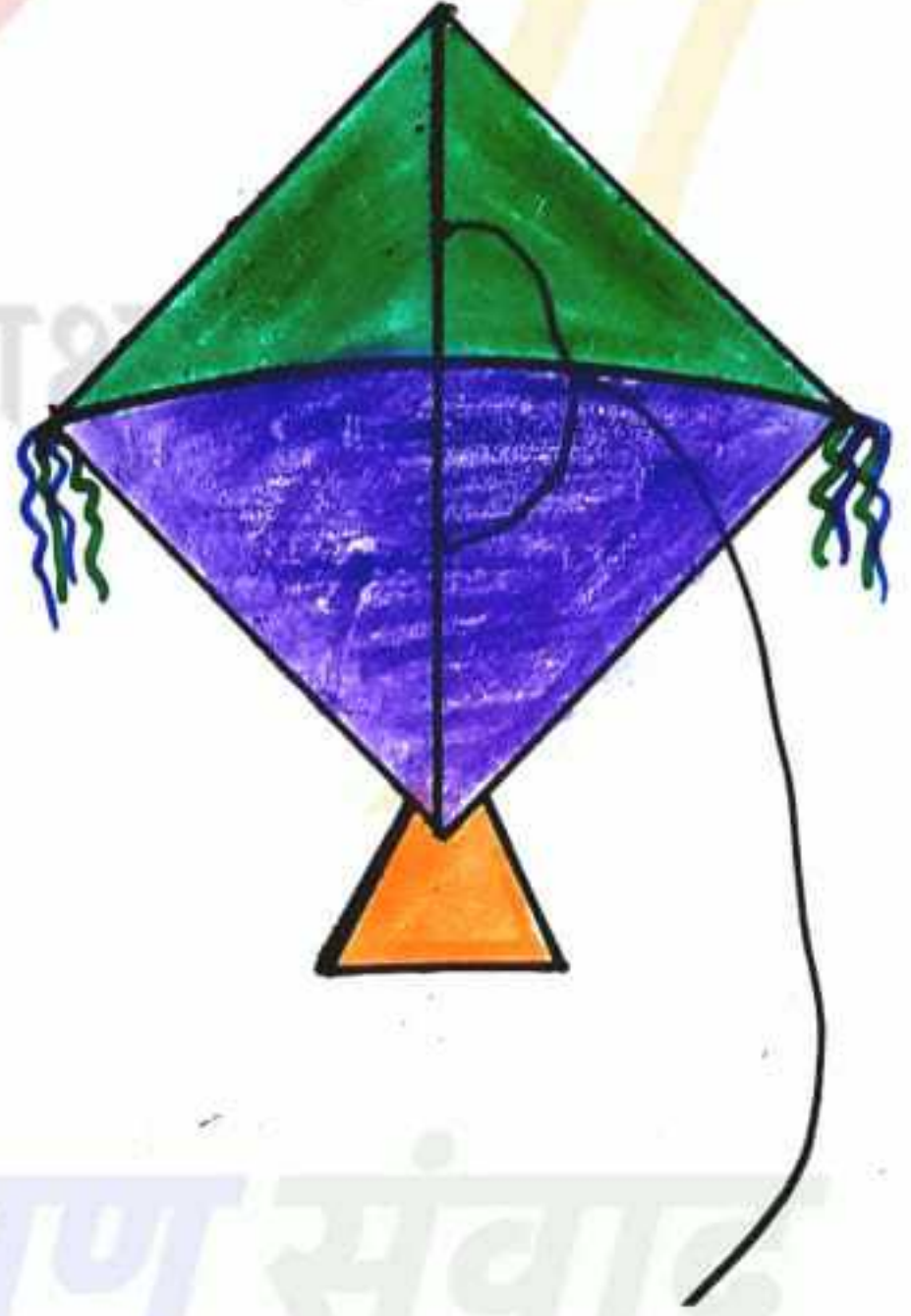
2



3



4



केवल अन्तिम रंगीन चित्र कॉपी पर बनाएं।

9458278429