



विषय- गणित

पाठ- रसोई

कक्षा- 1



प्रकरण- संख्या व संख्याओं की अवधारणा क्रमांक- 12

मिशन शिक्षण संवाद



बच्चों चित्र में देखकर नीचे दिए गए सामान को गिनकर लिखें-

		शिक्षण	
		संवाद	
		मिशन शिक्षण संवाद	

9458278429



मिशन शिक्षण संवाद

G

GRAPES

ग्रेप्स (अंगूर)



9458278429



मिशन शिक्षण संवाद

प्यारे बच्चों सभी चित्रों को ध्यान से देखें और उनके रहने, चलने या उड़ने के स्थान अनुसार मिलान करें-

अभ्यास कार्य

उड़ने वाले

घास या मैदान पर रेंगने वाले



पानी में रहने वाले

जमीन पर चलने वाले











9458278429



मिशन शिक्षण संवाद



बच्चों चित्र में देखकर नीचे दिए गए सामान को गिनकर लिखें-

9458278429



मिशन शिक्षण संवाद

F

FLAG

फ्लैग (झंडा)



9458278429



विषय- हिन्दी

पाठ- तालाब

कक्षा- 1

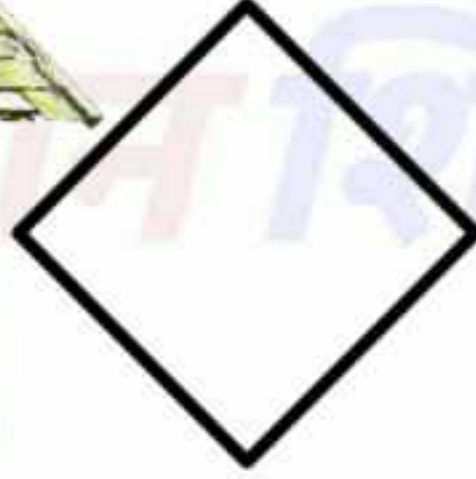
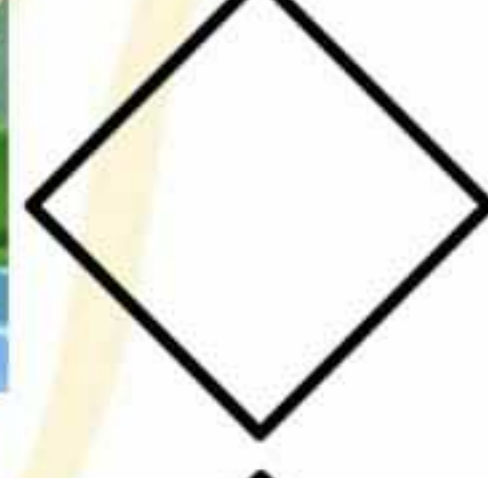




प्रकरण- चित्रों के साथ सम्बन्ध स्थापित करना

क्रमांक- 11

मिशन शिक्षण संवाद

प्यारे बच्चों हमें पानी कहाँ-कहाँ से मिलता है?
चित्र पहचान कर ✓ या ✗ लगाओ- **अभ्यास कार्य**



9458278429



विषय- गणित

पाठ- तालाब

कक्षा- 1



प्रकरण- गिनो व पेंसिल चलाओ क्रमांक- 10





मिशन शिक्षण संवाद



प्यारे बच्चों दिए गए चित्र को ध्यान से देखो कि चित्र में क्या-क्या दिखाई दे रहा है--

चित्र में बहुत से जीव-जंतु हैं।

जंतु गिनिए व बिंदुओं को पेंसिल से जोड़कर अंक बनाइये-



9458278429



मिशन शिक्षण संवाद

E

ELEPHANT
(एलीफैंट)

हाथी



Trace the letter

9458278429



विषय-हिन्दी

पाठ-तालाब

कक्षा - 1



प्रकरण- चित्रों के साथ सम्बन्ध स्थापित करना

क्रमांक - 10

मिशन शिक्षण संवाद





















प्यारे बच्चों इस चित्र को ध्यान से देखो, इस चित्र में क्या-क्या दिखाई दे रहा है? ←

अभ्यास कार्य

कौन क्या खाता है?

✓ लगाइए-

1.		→		<input type="checkbox"/>		<input type="checkbox"/>
2.		→		<input checked="" type="checkbox"/>		<input type="checkbox"/>
3.		→		<input type="checkbox"/>		<input type="checkbox"/>
4.		→		<input type="checkbox"/>		<input type="checkbox"/>
5.		→		<input type="checkbox"/>		<input type="checkbox"/>
6.		→		<input type="checkbox"/>		<input type="checkbox"/>

9458278429