

विषय- गणित

पाठ- तालाब

कक्षा- 1

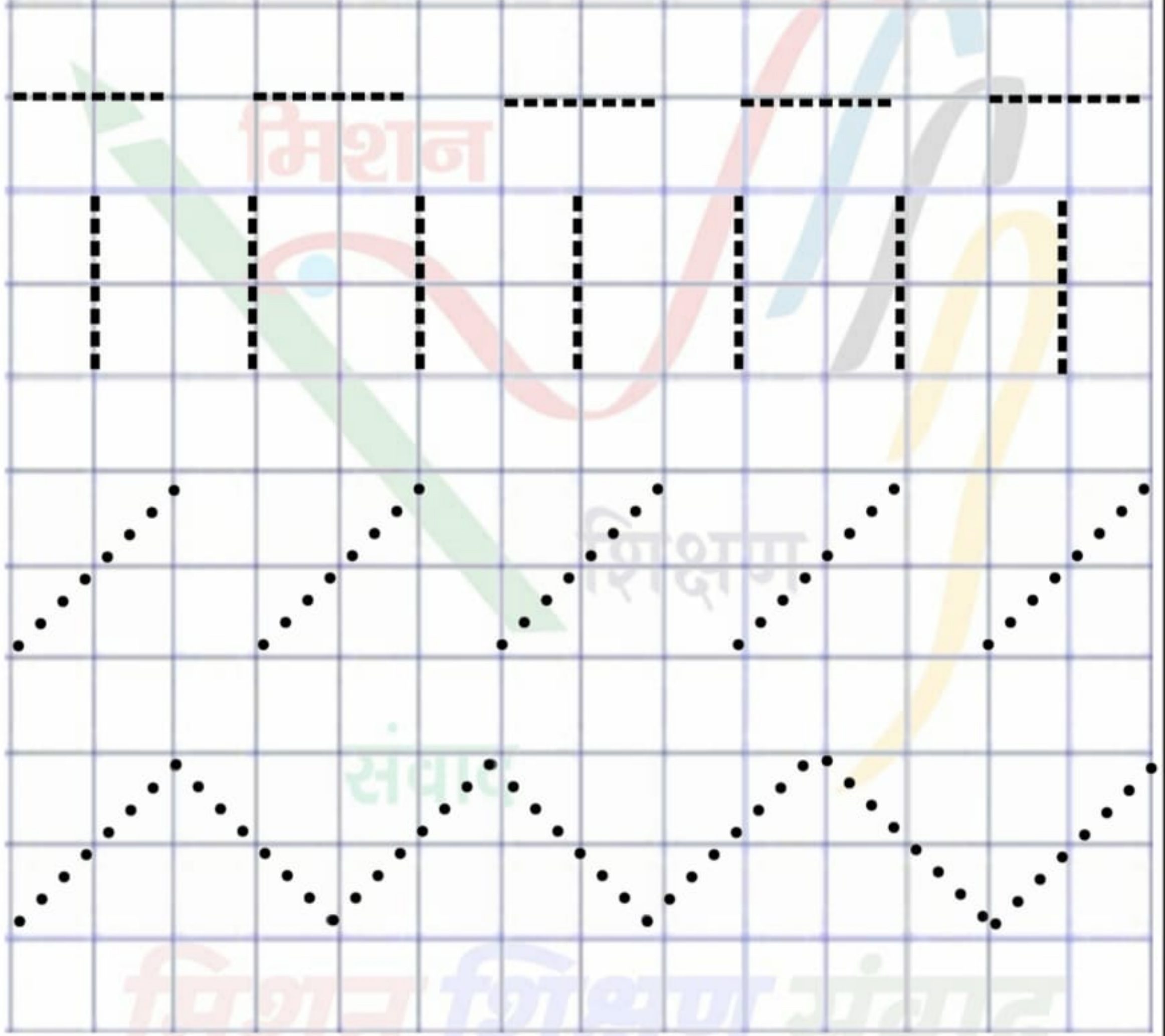
प्रकरण- बिन्दु मिलाओ

क्रमांक- 07



मिशन शिक्षण संवाद

**बिन्दु से बिन्दु मिलाते जाओ।
अलग-अलग आकार बनाओ।।**



9458278429

निर्माण कार्य करने वाले शिक्षक का नाम- पूजा सचान EMPS मसेनी, बढपुर, फरुखाबाद



विषय- गणित

पाठ- तालाब

कक्षा- 1

प्रकरण- गिनो व पेंसिल चलाओ

क्रमांक- 08



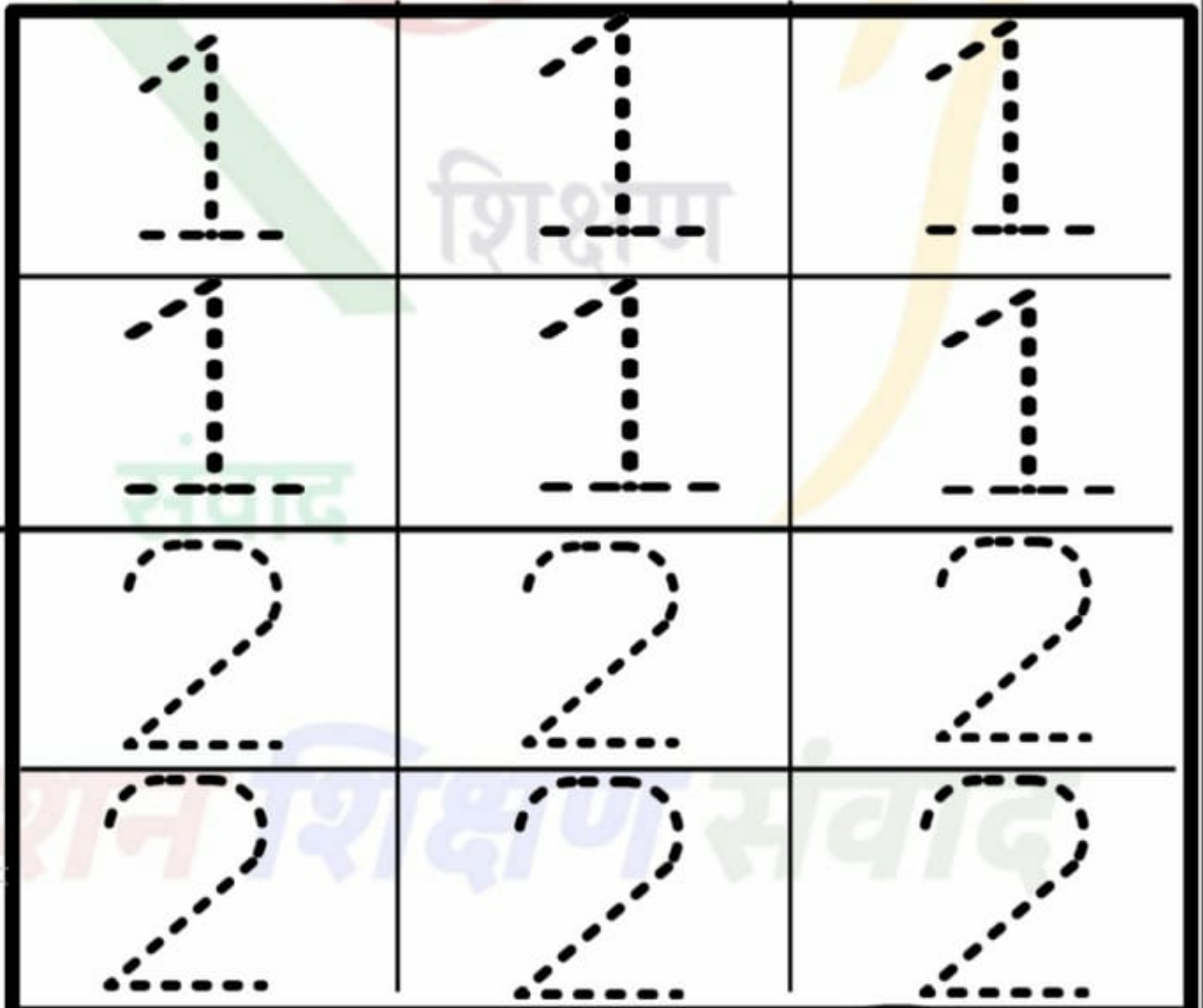
मिशन शिक्षण संवाद



प्यारे बच्चों दिए गए चित्र को ध्यान से देखो कि चित्र में क्या-क्या दिखाई दे रहा है--

चित्र में बहुत से जीव-जंतु हैं।

जंतु गिनिए व बिंदुओं को पेंसिल से जोड़कर अंक बनाइये-



9458278429

निर्माण कार्य करने वाले शिक्षक का नाम- पूजा सचान EMPS मसेनी, बड़पुर, फर्रुखाबाद



विषय- गणित

पाठ- तालाब

कक्षा- 1



प्रकरण- गिनो व पेंसिल चलाओ क्रमांक- 09

मिशन शिक्षण संवाद




प्यारे बच्चों दिए गए चित्र को ध्यान से देखो कि चित्र में क्या-क्या दिखाई दे रहा है--

चित्र में बहुत से जीव-जंतु हैं।

जंतु गिनिए व बिंदुओं को पेंसिल से जोड़कर अंक बनाइये-





9458278429



B

Ball (बॉल)

गेंद



B	B	B	B
B	B	B	B
B	B	B	B
B	B	B	B



मिशन शिक्षण संवाद

C

Cat

कैट (बिल्ली)





मिशन शिक्षण संवाद

D

DOG




डॉग (कुत्ता)

9458278429



मिशन शिक्षण संवाद




प्यारे बच्चों इस चित्र को ध्यान से देखो, इस चित्र में क्या-क्या दिखाई दे रहा है? ←

अभ्यास कार्य

पक्षी और जानवर कहाँ-कहाँ दिख रहा है, ✓ लगाएं-

1.  बन्दर लटक रहा है, ✓ लगाएं-




2.  चिड़ियाँ उड़ रही हैं, ✓ लगाएं-



3.  तोते बैठे हैं, ✓ लगाएं-



4.  मोर टहल रहा है, ✓ लगाएं-



9458278429



मिशन शिक्षण संवाद



प्यारे बच्चों इस चित्र को ध्यान से देखो, इस चित्र में क्या-क्या दिखाई दे रहा है? ←


अभ्यास कार्य

कौन कहाँ है पहचानो-

1. 

कछुआ किसके पास है, ✓ लगाएं-



2. 

मछली किसके ऊपर उछल रही है, ✓ लगाएं-



3. 

सांप किस पर लिपटा हुआ है, ✓ लगाएं-



4. 

मेढ़क किस पर बैठा है, ✓ लगाएं-



5. 

तितली कहाँ उड़ रही है, ✓ लगाएं-





विषय-हिन्दी

पाठ-तालाब

कक्षा - 1



प्रकरण- चित्रों के साथ सम्बन्ध स्थापित करना

क्रमांक - 9

मिशन शिक्षण संवाद
























प्यारे बच्चों इस चित्र को ध्यान से देखो, इस चित्र में क्या-क्या दिखाई दे रहा है? ←

अभ्यास कार्य

कौन किसका घर है, ✓

लगाइए-

1.		→		<input type="checkbox"/>		<input type="checkbox"/>
2.		→		<input checked="" type="checkbox"/>		<input type="checkbox"/>
3.		→		<input type="checkbox"/>		<input type="checkbox"/>
4.		→		<input type="checkbox"/>		<input type="checkbox"/>
5.		→		<input type="checkbox"/>		<input type="checkbox"/>
6.		→		<input type="checkbox"/>		<input type="checkbox"/>
7.		→		<input type="checkbox"/>		<input type="checkbox"/>

9458278429